

4. SINIF DENEME SINAVI 1.DÖNEM



- ▶ TÜRKÇE
- ▶ MATEMATİK
- ▶ FEN BİLİMLERİ
- ▶ SOSYAL BİLGİLER
- ▶ DİN KÜLTÜRÜ VE AHLAK BİLGİSİ
- ▶ İNGİLİZCE

Bu testte 15 soru vardır. Cevaplarınızı, cevap kağıdına işaretleyiniz.

1. Aşağıdaki cümlelerin hangisinde sebep-sonuç ilişkisi yoktur?

- A) Yağmur yağmadığından bitkiler büyümedi.
 B) Pınar hastalandığı için okula gelmedi.
 C) Geçen gün arkadaşlarımla beraber oyun oynadım.
 D) Arkadaşları onunla oynamadığı için üzüldü.

2. I. Gerçekten sınıfta en yüksek notu ben mi almışım?
 II. Ödevlerimi yapmadan okula gitmemeliydim.
 III.Çocukluğumun geçtiği o güzel köy evi gözümde tütüyor.

Numaralanmış cümlelere hakim olan duygular aşağıdakilerden hangisinde doğru sıralanmıştır?

- | I | II | III |
|------------|-----------|--------|
| A) Şaşırma | Pişmanlık | Özlem |
| B) Sevinç | Üzülme | Endişe |
| C) Şaşırma | Endişe | Sevinç |
| D) Yakınma | Pişmanlık | Sevgi |

3. Aşağıdaki tümcelerin hangisinde "kırık" sözcüğü mecaz anlamda kullanılmıştır?

- A) Karnesinde iki tane kırık notu vardı.
 B) Kemiğindeki kırık tam iyileşmedi.
 C) Dişindeki kırığı tedavi ettirdi.
 D) Cam kırıkları yola saçılmıştı.

4. Hasan Amca'nın oyuncakçı dükkanı vardı. Dükkanındaki bütün oyuncakları kendisi yapıyordu. Yetenekli ellerinden çıkan bu harika oyuncaklara çocukların ilgisi azalmıştı. O da fabrikadan çıkmış; ucuz, plastik malzemelerden yapılmış oyuncaklar getirdi. Çocuklar bu oyuncakları kullandıktan sonra ne kadar dayanıksız olduğunu gördüler ve Hasan Amca'nın eski oyuncaklarının değerini anladılar.

Bu parçada hikaye unsurlarından hangisine yer verilmemiştir?

- A) Olay
 B) Yer
 C) Kişi
 D) Zaman

5. Aylardır görmediği arkadaşıyla karşılaşınca ağzı kulaklarına vardı.

Yukarıdaki cümlede altı çizili deyim cümleye kattığı anlam aşağıdakilerden hangisidir?

- A) Telaşlanmak
 B) Üzülme
 C) Mutlu olmak
 D) Şaşırma

6. Tiyatro, sanatsal veriyi topluma anlatan en etkili iletişim kanalıdır. İzleyenleri düşünmeye ve eleştirmeye teşvik eder. Toplumun konulara olan duyarlılığını artırır. Toplumdaki kültür bilincinin çeşitlenmesini ve gelişmesini sağlar. Sorunlara nesnel gözle bakılmasını sağlar. Bu sebeplerle tiyatro insanların kültürel gelişimi için önemlidir.

Yukarıdaki metne en uygun başlık nedir?

- A) Sanat ve İnsan
- B) Tiyatronun Tarihi
- C) Sinema ve Tiyatro
- D) Tiyatronun Önemi

(7. 8. ve 9. soruları aşağıdaki metne göre cevaplayınız.)

Mustafa Kemal istasyondan şehre doğru, bir süre yürüdü. Mustafa Kemal'i görmek için sabahtan itibaren yolları dolduran Tarsusluların arasından neşe ile selamlar vererek ilerledi. O sırada ansızın bir olayla karşılaştı.

Millî Mücadele'deki çete giysili bir kadın, Atatürk'ün yolunu keserek ayağına kapandı. Gözyaşlarıyla şöyle haykırıyordu:

—Bastığın toprağa kurban olayım Paşam!

Mustafa Kemal onu yerden kaldırmak için eğilirken kulağına bu kadının Kurtuluş Savaşı'nda cephelerde çarpışmış olan Adile Çavuş olduğunu fısıldadılar. Gözlerinden iki damla yaş düşen Mustafa Kemal, bu güneşten yüzü yanmış kadının elinden tutup ayağa kaldırdı ve ona şöyle seslendi:

—Kahraman Türk kadını! Sen yerlerde sürünmeye değil, omuzlar üzerinde yükselmeye layıksın.

7. Atatürk, yaşadığı bu durum karşısında ne hissetti?

- A) Atatürk, yanındakilere sinirlendi.
- B) Atatürk, duygulandı ve ağladı.
- C) Atatürk, kadını görmezden geldi.
- D) Atatürk, uzun bir konuşma yaptı.

8. Yukarıdaki metne en uygun başlık aşağıdakilerden hangisi olabilir?

- A) Atatürk ve Kahraman Türk Kadını
- B) Atatürk'ün İleri Görüşlülüğü
- C) Atatürk'ün Askeri Bilgisi
- D) Atatürk'ün İnsan Sevgisi

9. Atatürk'ün "Kahraman Türk kadını! Sen yerlerde sürünmeye değil, omuzlar üzerinde yükselmeye layıksın." sözü bize neyi anlatıyor?

- A) Atatürk'ün Türk kadınlarına verdiği değeri
- B) Atatürk'ün durum karşısında şaşırıldığını
- C) Atatürk'ün çocuk sevgisini
- D) Atatürk'ün sadece kahramanlara değer verdiğini

10. Aşağıdaki cümlelerden hangisinde "-ki"einin yazımında bir yanlışlık yapılmıştır?

- A) Onunki mavi renklidir.
- B) Seninki yine küplere binmiş.
- C) Öyle mert bir insanki görmelisiniz.
- D) Bir baktım ki, o da ne?

11.



Eyvah! Yine ona yakalandım.

Ozan



Artık ne yapacağımı bilmiyorum?

Eren



Sen de benimle gelir misin?

Caner



Ailem köye taşınma kararı aldı.

Yusuf

Yukarıdaki öğrencilerin hangisi yanlış noktalama işareti kullanmıştır?

- A) Ozan
- B) Eren
- C) Caner
- D) Yusuf

12. Ormanlar biz insanların geleceğidir. Orman ve ağaç hayatımızın bir parçasıdır. Fakat son zamanlarda artan orman yangınları sebebi ile ülkemizdeki orman varlığı giderek azalmaktadır. Bu durumu önlemek için ağaçlara zarar vermeyip yeni fidanlar dikmeliyiz. Orman yangınları hakkında halkımızı bilinçlendirmeliyiz.

Bu paragrafın ana fikri aşağıdakilerden hangisidir?

- A) Ormanlar hayvanların yaşadığı yerdir.
- B) Kağıt yapımında ormanlardan yararlanılır.
- C) Ormanlar yaşamımız için önemlidir, onları koruyalım.
- D) Orman yangınlarını itfaiyeye haber vermeliyiz.

13. Aşağıdaki cümlelerden hangisinde yazım yanlışlığı yapılmıştır?

- A) Bugün yalnız kaldığımı fark ettim.
- B) Benim kedim çok tenbeldir.
- C) Sınıftaki herkes sınavdan 100 aldı.
- D) Babam yanıma Ahmet'i gönderdi.

14. I. Dizelerden oluşur.

II.Paragraflardan oluşur.

III.Kelimelerin bazıları gerçek, bazıları mecaz anlamıyla kullanılabilir.

IV.Duygu ön plandadır.

Yukarıdaki bilgilerden hangileri şiir türünün özelliklerindedir?

- A) I ve IV
- B) III ve IV
- C) I, II ve III
- D) I, III ve IV

15. Mağaza vitrinlerindeki mankenleri bilirsiniz. Hepsi de güler yüzlüdür. Ama dilleri olmadığı için soğukturlar. İnsanları da güzel yapan, sıcak yapan dildir. Ama her dil değil. Dilin de tatlısı olmalı. Çünkü o dil, ağzın içinde her dönüşünde can yakar, kalp kırar.

Yukarıda verilen metindeki kelimelerden hangisinin zıt anlamlısı metin içinde yer almaktadır?

- A) Dil
- B) Soğuk
- C) Yara
- D) Tatlı



Bu testte 15 soru vardır. Cevaplarınızı, cevap kağıdına işaretleyiniz.

1.

Altı yüz dört bin yüz otuz

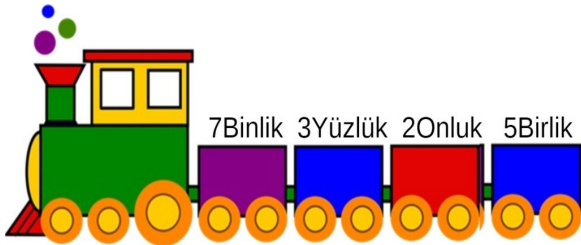
Yukarıda okunuşu verilen sayının binler bölümündeki sayı ile birler bölümündeki sayı arasındaki fark kaçtır?

- A) 474
B) 447
C) 66
D) 470

2. Pazartesi 90 sayfa kitap okuyan Ahmet salı günü pazartesiden 45 sayfa daha fazla okursa bu iki günde toplam kaç sayfa kitap okumuş olur?

- A) 225 B) 195 C) 300 D) 200

3.



Yukarıdaki trende çözümlenmesi verilen sayı aşağıdakilerden hangisidir?

- A) 7325
B) 3752
C) 7235
D) 3725

4. 35A1B4 doğal sayısının çözümlenişi;

$$(3 \times 100000) + (5 \times 10000) + (1 \times 1000) + (1 \times 100) + (6 \times 10) + (1 \times 4)$$

olduğuna göre "A+B" kaçtır?

- A) 9 B) 8 C) 7 D) 6

5.

$$\begin{array}{r} 876 \\ \times 43 \\ \hline \end{array}$$

Yukarıdaki çarpma işleminin sonucu hangisinin sonucu ile aynıdır?

- A) $\begin{array}{r} 447 \\ \times 24 \\ \hline \end{array}$ B) $\begin{array}{r} 814 \\ \times 35 \\ \hline \end{array}$
C) $\begin{array}{r} 412 \\ \times 66 \\ \hline \end{array}$ D) $\begin{array}{r} 438 \\ \times 86 \\ \hline \end{array}$

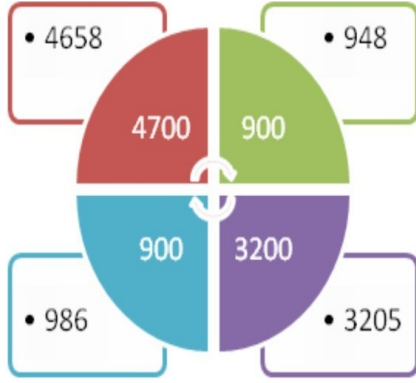
6.



Bir çiftlikte 27 tane kaz, 43 tane inek ve 18 tane koyun vardır. Çiftlikteki hayvanların toplam ayak sayısı kaçtır?

- A) 298 B) 88 C) 148 D) 254

7.



Yukarıda verilen şekilde sayıların en yakın yüzlüğe yuvarlanmış hali verilmiştir. Hangi renkteki sayının en yakın yüzlüğe yuvarlanmış halinde hata yapılmıştır?

- A) Kırmızı
- B) Mavi
- C) Yeşil
- D) Mor

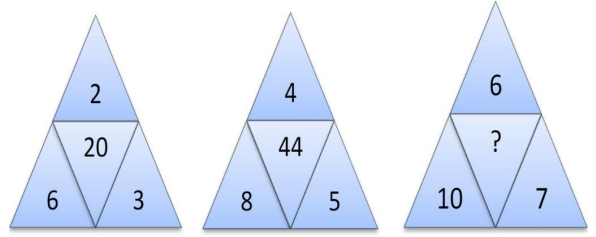
8.

$$\begin{array}{r}
 6 \text{ 🌸 } 2 \text{ ❤️} \\
 - 3 \text{ ☆ } 5 \text{ ☆ } 6 \\
 \hline
 2 \text{ ☆ } 7 \text{ ☆ } 4 \text{ ☆ } 8
 \end{array}$$

Yukarıdaki çıkarma işlemine göre sembollerin yerine getirilmesi gereken sayılar hangi seçenekte doğru verilmiştir?

- | | | | |
|----|---|----|---|
| | 🌸 | ❤️ | ☆ |
| A) | 7 | 4 | 2 |
| B) | 4 | 7 | 3 |
| C) | 3 | 4 | 7 |
| D) | 2 | 7 | 3 |

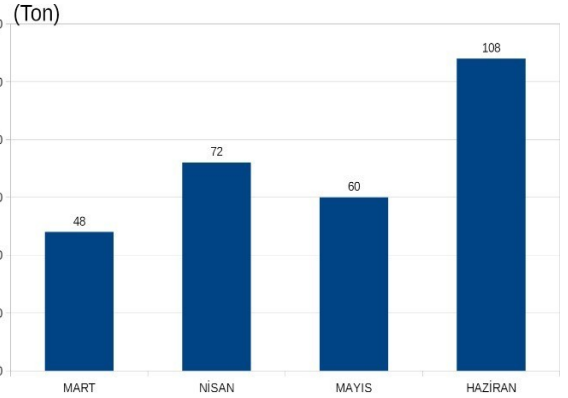
9.



Yukarıdaki şekiller belli bir kurala göre düzenlenmiştir. Buna göre ? olan yere hangi sayı yazılmalıdır?

- A) 52
- B) 76
- C) 23
- D) 67

10.



I. Mart ve Nisan ayında taşınan toplam miktar Haziran ayında taşınan miktardan fazladır.

II. Mayıs ayında Nisan ayından daha fazla malzeme taşınmıştır.

III. Haziran ve Mayıs ayında taşınan miktarların farkı Mart ayında taşınan miktara eşittir.

Yukarıda bir nakliye firmasının bazı aylarda taşıdığı malzemelerin miktarı ton cinsinden verilmiştir.

Bu tabloya göre yukarıdaki yargılardan hangilerine ulaşılabilir?

- A) I ve II
- B) I ve III
- C) II ve III
- D) I, II ve III

11.

$$12 \times 4 = 48$$

$$48 - 9 = 39$$

$$39 + 12 = 51$$

Yukarıda çözüm basamakları verilen problem aşağıdakilerden hangisidir?

- A) Tanesi 12 liradan 4 tane kitap aldım. 9 liraya da defter aldım. Kaç para harcadım?
- B) 12 sayısının 4 katının 9 eksiği kaçtır?
- C) Ben 12 yaşındayım. Annemin yaşı benim yaşımın 4 katından 9 eksiktir. Buna göre ikimizin yaşları toplamı kaçtır?
- D) Samet'in akvaryumunda 12 sarı, 4 kırmızı ve 9 mavi balık vardır. Samet'in akvaryumunda kaç balık vardır?

12.



75649
Adet



7564
Adet



756490
Adet



12564
Adet

Bir fabrikada fayanslar paketlenmiştir. Her pakette farklı sayıda fayans vardır ve paketlerin üzerinde kaç adet bulunduğu yazmaktadır. Fabrikada çalışan bir işçi paketleri büyükten küçüğe sıralarsa paketlerin dizilimi nasıl olur?

- A) 75649 > 756490 > 12564 > 7564
- B) 756490 > 12564 > 75649 > 7564
- C) 756490 > 75649 > 12564 > 7564
- D) 7564 > 12564 > 75649 > 756490

13. 2365 sayısının birler ve binler basamağındaki sayılar yer değiştirdiğinde sayıda nasıl bir değişiklik olur?

- A) 3960 azalır
- B) 2997 artar
- C) 2997 azalır
- D) 3960 artar

14. "Seksen bin seksen sekiz" sayısının rakamlarla yazılışı aşağıdakilerden hangisidir?

- A) 800808
- B) 80008
- C) 88088
- D) 80088

15. Mehmet bayramda 145 TL toplamıştır. Topladığı parasını harcayan Mehmet 55 TL'ye pantolon, 42 TL'ye gömlek ve 15 TL'ye de tişört almıştır. Buna göre Mehmet'in cebinde kaç TL'si kalmıştır?

- A) 112
- B) 102
- C) 95
- D) 33

Bu testte 10 soru vardır. Cevaplarınızı, cevap kağıdına işaretleyiniz.


1. Vücudumuzun ihtiyaç duyduğu besin maddelerinin, vücudun ihtiyacı oranında tüketilmesine ne denir?

- A) Obezite
- B) Dengeli Beslenme
- C) Diyet
- D) Besin İsrافی


2. Fen Bilimleri dersini çok seven 4. sınıf öğrencisi Mert, evde boş zamanlarında Fen Bilimleri dersinde öğrendiği konularla ilgili çeşitli projeler yaparak, projelerini arkadaşları ve öğretmenleri ile paylaşmaktadır.

Mert'in son projesi *karbonhidrat* bakımından zengin besinlerin olduğu posterler yaparak bu posterleri öğretmeni ve arkadaşları ile paylaşarak sınıf panosunda sergilemektedir.

Mert'in posterinde aşağıdaki görsellerden hangisi olabilir?



3. 1 ← → 2



Hareket Yönü →

Yukarıdaki resme göre;

- I. 1 yönünde kuvvet uygulanırsa cisim yavaşlar.
- II. 2 yönünde kuvvet uygulanırsa cisim hızlanır.
- III. 1 yönünde uygulanan kuvvetin büyüklüğü artarsa cisim yön değiştirebilir.

Yukarıdaki ifadelerden hangileri doğrudur?

- A) I ve III
- B) II ve III
- C) Yalnız III
- D) I, II ve III

4.



Mehmet Bey; uzun yıllar önce yaşamış ve çeşitli kazılarda ortaya çıkmış olan, yukarıdaki resimlerde de görüldüğü gibi, bitki ve hayvan kalıntılarıyla ilgili araştırma ve keşif çalışmaları yapan bir bilim adamıdır.

Buna göre Mehmet Bey ile ilgili olarak aşağıdakilerden hangisi söylenebilir?

- A) Mehmet Bey bir antropologdur ve kayaçların yapısını inceler.
- B) Mehmet Bey bir paleontologdur ve eski tarihi eserleri inceler.
- C) Mehmet Bey bir tarihçidir ve eski tarihi eserleri inceler.
- D) Mehmet Bey bir paleontologdur ve fosilleri inceler.

5. 1. Mevsimler meydana gelir.
2. Gece-gündüz oluşur.
3. 1 yıllık zaman dilimi tamamlanır.
4. Gün içinde gölge boyları değişir.

Verilen öncülleri dünyanın hareketlerine göre gruplandırarsak, gruplandırma hangi şekilde oluşur?

<u>Dolanma</u>	<u>Dönme</u>
A) 1-2	3-4
B) 1-4	2-3
C) 1-3	2-4
D) 4	1-2-3

6.



Yukarıda resmi verilen kayaçların birbirinden farklı renk ve şekillerde olmasının sebebi hangi seçenekte doğru olarak verilmiştir?

- A) Ağırlıkları farklı olduğu için
- B) Bazıları dünyanın merkezine daha yakın oldukları için
- C) Farklı mineraller içerdikleri için
- D) Boyandıkları için

7. 4/C sınıfı öğrencileri "Sağlıklı Besleniyorum" konulu afişler hazırlamıştır.

**BOL BOL
SÜT İÇ!**

EKMEK YE!

**ZEYTİN YEMEDEN
DOYMAZSIN!**



Rabia



Burcu



Burak

Öğrencilerin hazırladığı afişler sırasıyla hangi besin grubu ile ilişkilidir?

- | | | |
|------------|--------------|--------------|
| A) Yağ | Protein | Karbonhidrat |
| B) Protein | Yağ | Karbonhidrat |
| C) Protein | Karbonhidrat | Yağ |
| D) Yağ | Protein | Yağ |

8. Aşağıdaki grafikte 5 ülkenin sigara bağımlısı ortalama insan sayısı verilmiştir:

A	500 Bin
B	457 Bin
C	300 Bin
D	365 Bin
E	200 Bin

Tabloya göre aşağıdaki bilgilerden hangisi yanlıştır?

- A) Tabloya göre damar tıkanıklığı riski en fazla E ülkesindedir.
- B) Tabloya göre nikotin kullanımının en fazla olduğu ülke A ülkesidir.
- C) D ülkesinde akciğer kanseri olma riski C ülkesinden fazladır.
- D) A ülkesinde kanser riski B ülkesinden fazladır.
9. “İnsan sağlığı her şeyden önemlidir.”
Bunun için besinleri alırken bilinçli tüketici aşağıdakilerden hangisine dikkat etmez?
- A) TSE damgasını kontrol eder.
- B) Taze ve doğal ürünler tüketir.
- C) Son tüketim tarihini kontrol eder.
- D) İyi bir reklamı var mı diye bakar.

10.

	Maden	Kullanım Alanları
I	Alüminyum	Ahşap Eşya Yapımında
II	Gümüş	Mücevher Yapımında
III	Bakır	Elektrik Kablolarında
IV	Krom	Çelik Yapımında
V	Demir	Defter-Kitap Yapımında

Yukarıda bazı madenler ve kullanım alanları verilmiştir. Bu bilgilerden hangileri yanlıştır?

- A) I ve V
- B) II, III ve IV
- D) IV ve V
- D) III, IV ve V

Bu testte 10 soru vardır. Cevaplarınızı, cevap kağıdına işaretleyiniz.

1. Aşağıdakilerden hangisi bilinçli bir tüketicinin göstereceği davranış değildir?

- A) Son kullanma tarihine dikkat eder.
- B) TSE damgasına dikkat eder.
- C) Ambalajının yırtık olmamasına dikkat eder.
- D) Lezzetine dikkat eder.

2. İSTİKLAL YOLU

Ben;
Şubatin ayazında,
Bir bebek, bir kağıt,
Kar altında Ankara'ya,
Cephane gidecek.

Yukarıda bahsedilen milli mücadele kahramanı kimdir?

- A) Şerife Bacı
- B) Halide Edip Adıvar
- C) Ali Saip Bey
- D) Sütçü İmam

3. Mert ve Nazlı kardeşlerdir. Mert Nazlı'nın ağabeyidir. İki kardeş bir gün kimlik belgelerini incelerken hangi bilgilerin kesinlikle farklı olduğunu görmüşlerdir?

- A) Anne adı
- B) Baba adı
- C) T.C kimlik numarası
- D) Doğum yeri

4.

Doğal Unsurlar	Beşeri Unsurlar
Van Gölü	Selim Hastanesi
Karadeniz	Ağrı Dağı
Uludağ	Fatih Sultan Mehmet Köprüsü
Atatürk İlkokulu	Türk Telekom Stadyumu

Hasan Sosyal Bilgiler dersinde doğal ve beşeri unsur örneklerini defterine yazarken yanlış yazdığının farkına varmıştır. Hasan bu tablodan hangi bilgilerin yerlerini değiştirirse hatasını düzeltir?

- A) Van Gölü – Ağrı Dağı
- B) Karadeniz – Türk Telekom Stadyumu
- C) Uludağ – Selim Hastanesi
- D) Atatürk İlkokulu – Ağrı Dağı

5.



Cumhuriyet'i ilan etti.
(1)



Erzurum Kongresin'i yaptı.
(2)



Samsun'a çıktı.
(3)



TBMM'yi açtı.
(4)

Atatürk'ün hayatıyla ilgili yukarıdaki olayların kronolojik sıralaması hangi seçenekte doğru verilmiştir?

- A) 3 – 2 – 4 – 1
- B) 4 – 2 – 3 – 1
- C) 2 – 4 – 3 – 1
- D) 2 – 3 – 4 – 1

6. I. Ayakkabım yırtıldığı için babam bana ayakkabı alacak.
II. Duyduğu sesi anında taklit edebiliyor.
III. Müzik dinlemeyi seviyorum.

Yukarıdaki cümleler ilgi, ihtiyaç ve yetenek yönünden sıralanırsa aşağıdakilerden hangisi doğru olur?

- A) İlgi – İhtiyaç – Yetenek
B) İhtiyaç – İlgi – Yetenek
C) Yetenek – İlgi – İhtiyaç
D) İhtiyaç – Yetenek - İlgi

7. **Sevda:** Bugün ülkelerindeki iç karışıklık sebebi ile doğup büyüdükleri topraklardan ayrılmak zorunda kalan çocukları gördüm ve çok üzüldüm. Çok zor şartlarda yaşadıklarını ve ülkemize geldiklerinde az da olsa mutlu olduklarını gördüm. Kendimi onların yerine koyduğumda bu durumun ne kadar kötü olduğunu fark ettim. Bu nedenle onlara elimizden geldiğince yardım etmemiz gerektiğini düşünüyorum.

Sevda'nın yukarıdaki düşüncelerine göre hangi özelliğinin geliştiğini söyleyebiliriz?

- A) Öfke
B) Empati
C) Sorumluluk
D) Sevgi

8. **Mustafa Kemal'in 19 Mayıs 1919'da Samsun'a çıktığında gerçekleştirmek istediği amaç hangisidir?**

- A) Padişah olmak
B) Anadolu'nun işgalini kolaylaştırmak
C) Milli bilinci uyandırmak
D) İtilaf Devletleri'nin isteklerini kabul etmek

9. "Dedemin anlattığına göre bu oyun; koyun ve keçilerin ön dizlerinde bulunan bir eklem kemiği ile oynanmıştır. Bu kemik eskiden çocuklara oyuncak olurmuş. Bu kemikler çeşitli kök boyaları ile boyanır ve ortalarına kurşun dökülerek ağırlaştırılmış." **diyen bir öğrenci aşağıdaki hangi oyundan bahsetmiştir?**

- A) Topaç Çevirme
B) Aşık Oyunu
C) Saklambaç
D) Dalye

10. I. Hangi okulları bitirdiniz?

II. Bu yaz tatile nereye gideceğiz?

III. Nerede ve ne zaman doğdunuz?

IV. Annemle babam ne zaman evlendi?

V. Ortaokulda hangi derslerimiz olacak?

Sözlü tarih çalışması yapmak isteyen Mete, yukarıda hazırladığı hangi soruları listesinden çıkarmalıdır?

- A) I ve V
B) I , II ve V
C) II ve V
D) III ve IV



Bu testte 5 soru vardır. Cevaplarınızı, cevap kağıdına işaretleyiniz.

1. “İman etmedikçe cennete giremezsiniz. Birbirinizi sevmedikçe de gerçekten iman etmiş olamazsınız. Size birbirinizi sevdirecek bir şey söyleyeyim mi? Aranızda selamı yaygınlaştırınız.”

Peygamberimiz(sav)’in bu hadisinde hangisinden bahsedilmemiştir?

- A) Günah B) Selam C) Sevgi D) İman

2. I. Bir yakınıni kaybeden kişiye söyleriz.
(Allah rahmet eylesin.)
II. Bir işin olmasını çok istediğimizde söyleriz.
(İnşallah.)
III. Başına kötü bişey gelmesin diye söyleriz.
(Allah korusun.)
IV. Yeni karşılaştığımız birine söyleriz.
(Allah’a emanet ol.)

Yukarıdaki cümlelerden hangisi parantez içerisinde verilen ifadeyle uyuşmamaktadır?

- A) I B) II C) III D) IV

3. İman kelime anlamı olarak inanma ve tasdik etme anlamına gelir. Dinimize göre imanın şartları altı tanedir. Aşağıdakilerden hangisi imanın şartlarından değildir?

- A) Allah’a iman
B) Meleklerle iman
C) Hacca gitmek
D) Peygamberlere iman

4. () Yaşlı bir insanın karşıdan karşıya geçmesine yardım etmek
() Çevremizdeki muhtaç durumda olan fakir insanlara yardım etmek
() Başkasının malını izinsiz alıp kullanmak
() İnsanların arkasından dedikodularını yapmak

Yukarıdaki cümlelerin başına günah ise G harfi, sevap ise S harfi yazılırsa hangi model oluşur?

A)

G
G
S
G

B)

S
S
G
G

C)

S
G
S
G

D)

S
S
S
G

5.



Yukarıdaki tanılayıcı dallanmış ağaçta hangi çıkış doğru olandır?

- A) 1 B) 2 C) 3 D) 4

Bu testte 10 soru vardır. Cevaplarınızı cevap kağıdına işaretleyiniz.

1.

Resme göre
aşağıdakilerden hangisi
söylenbilir?



- A) Clean the board.
B) Close the window.
C) Turn on the lights.
D) Open the door.

2. Aşağıdaki eşleştirmelerden hangisi yanlıştır?

- A) Playing → basketball
B) Wathcing → TV
C) Reading → book
D) Doing → guitar

3.

A: What is this?

B: It is aflag.



- A) Turkish
B) German
C) French
D) Saudi Arabian

4.

Can you go fishing?

.....



Sorusunu cevabı aşağıdakilerden hangisidir?

- A) I do jump. B) Yes I can.
C) Can you drive . D) I am from Italy.

5.

Take

I

pencil

your

May

Hangi seçenekte soru cümlesi doğru olarak verilmiştir?

- A) May your take I pencil
B) May I take your pencil
C) May I pencil take your
D) Your pencil I my take

6.

Where is Antalya?

.....



Sorusunun cevabı aşağıdakilerden hangisidir?

- A) It's in north B) It's in the South
C) It's in the east D) It's in the west

7.

What is this number?



- A) Seventy eight B) Seventy six
C) Seventy D) Ninety eight

8. **Rosemary:** Hi, Benjamin
Benjamin : Hello, Rosemary



Rosemary:
Benjamin : She is Japanese

- A) Where is she from?
B) Is he Japanese?
C) What nationality is she?
D) Where is he from?




9.

- 1) Turkey-Turkish
2) Germany-German
3) Japan-Japanese
4) Egypt-Russian

Yukarıdaki eşleştirmelrden hangisi yanlıştır?

- A) 1 B) 3 C) 2 D) 4

10. I can climb a tree and run but I can't swim and fly.
Yukarıdaki ifadeye göre hangi resim daha uygundur?

- A)  B) 
C)  D) 