



EVDE DENE SERİSİ



ilkokulodev.com



TÜRKÇE



Şaheserimi büyüklere gösterdim ve korkup korkmadıklarını sordum. Ama onlar: "Korkmak mı? Bir şapkadan niye korkalım ki?" dediler. Oysa çizdiğim resim bir şapkaya ait değildi. Koca bir fili sindirmekte olan bir boa yılanını çizmiştim ben. Neyse, büyükler anlayabilsin diye başka bir resim daha çizdim. Bu kez boa yılanının midesindeki fili açık seçik göstermiştim. Şu büyüklere hep açıklama yapmak gerekiyor. İkinci resimim ise şöyle bir şey oldu:



(Küçük Prens Kitabından Alıntıdır.)

İlk 3 soruyu yukarıdaki metne göre cevaplayınız.

1. Çizdiği resmi Küçük Prens'in büyüklerden farklı yorumlamasının sebebi ne olabilir ?

- A) Resime farklı zamanlarda bakması.
- B) Hayal gücü ve yaratıcılığı.
- C) Şapkanın ne demek olduğunu bilmemesi.
- D) Büyüklere kızgın olması.

2. Küçük Prens çizdiği resmi büyüklere ne olarak yorumlamış ?

- A) Şapka
- B) Fil yutmuş boa yılanı
- C) İnek
- D) Fil ile boa yılanı

3. Küçük Prens çizdiği resmi anlamayan büyükler için ne yapmış ?

- A) Başka bir resim daha çizmiş.
- B) Sözlü olarak anlatmaya çalışmış.
- C) Anlatmaktan vazgeçmiş.
- D) Bu duruma çok üzülüğünü belirtmiş.



Emre

Sevinçten havalara uçtum.



Hazal

Arkadaşım ile uçurtma uçurduk.



Temel

Kanadı kırık kuş iyileşip bir anda uçuverdi.

4. Yukarıdaki çocuklardan hangisi ve ya hangileri "uçmak" kelimesini gerçek anlamında kullanmıştır?

- A) Emre
- B) Hazal
- C) Emre ve Hazal
- D) Hazal ve Temel

5. Aşağıdaki cümlelerin hangisinde deyim kullanılmamıştır ?

- A) Misafirlerin konuştuklarına kulak kesildi.
- B) Arkadaşları ona hiç yüz vermiyordu.
- C) Yapılan araştırmalar sonucu aşı bulundu.
- D) İsteddiği olmayan Zeynep'in yüzünden düşen bin parçaydı.



6. Aşağıdaki cümlelerin hangisinde **neden sonuç** ilişkisi vardır?

- A) Çiçekleri gece sula; daha çabuk büyür.
- B) Bana göre Matematik en kolay ders.
- C) Bugünlerde en iyisi sokağa çıkmamak.
- D) Düzenli olarak kitap okurum.

Cevap	Yanıt
Sonbahar	Güz
Dil	Lisan
Hafıza	Akıl

7. Yukarıdaki tabloda bazı sözcükler ve eş anlamlıları verilmiştir.

Bu eşleştirmelerden hangisi **yanlıştır** ?

- A) Cevap - Yanıt
- B) Sonbahar - Güz
- C) Dil - Lisan
- D) Hafıza - Akıl

8. Aşağıdaki cümlelerin hangisinde “ ; ” (noktalı virgül) yanlış kullanılmıştır?

- A) At ölür, meydan kalır; yiğit ölür, şan kalır.
- B) Konuşuyorum; çünkü gerçekleri siz de bilmelisiniz.
- C) Erkek çocuklara Fatih, Osman, Murat; kız çocuklara ise Buse, Meryem, Havva adları verilir.
- D) Aklın ve bilimin üç büyük düşmanı vardır; fenalık, cahillik ve tembellik.

Bir Yolcuya

Dur yolcu! Bilmeden gelip bastığın,
Bu toprak, bir devrin battığı yerdir.
Eğil de kulak ver, bu sessiz yığın,
Bir vatan kalbinin attığı yerdir.

Bu ıssız, gölgesiz yolun sonunda,
Gördüğüm bu tümsek, Anadolu'nda,
İstiklal uğrunda, namus yolunda,
Can veren Mehmed'in yattığı yerdir.

9. Yukarıdaki şiirin ana duygusu nedir?

- A) Anne sevgisi
- B) Vatan sevgisi
- C) Okul sevgisi
- D) Arkadaş sevgisi



10. Yukarıdaki karikatürde verilmek istenen mesaj nedir?

- A) İnsanları özgürleştiren de sınırlandıran da kendi düşünceleridir.
- B) İnsan vaktini çok iyi değerlendirmelidir.
- C) Başkalarının dedikleri ile yola çıkmamalıyız.
- D) Hayatımız boyunca sürekli çalışmalıyız.



MATEMATİK

14356

22345

1892

90234

1. Yukarıdaki doğal sayılardan hangisinin binler basamağıdaki sayı en büyüktür?

- A) 14356
- B) 22345
- C) 1892
- D) 90234

$$(12 \times 7) + 5 = 5 + (7 \times A)$$

2. Yukarıda verilen eşitlikte "A" yerine hangi sayı yazılmalıdır?

- A) 5
- B) 7
- C) 12
- D) 19



3. 8 yarım, 2 tam ve 4 çeyrek ekmek toplamda kaç ekmek eder ?

- A) 4
- B) 5
- C) 6
- D) 7

$$\frac{4}{5}$$

$$\frac{11}{5}$$

$$2\frac{2}{9}$$



Reyhan

Ali Can

Özkan

4. Yukarıdaki çocukların söylediği kesirler sırasıyla hangi türdür?

Reyhan

Ali Can

Özkan

- | | | |
|---------------|---------|------------|
| A) Tam Sayılı | Bileşik | Bileşik |
| B) Basit | Basit | Bileşik |
| C) Basit | Bileşik | Tam Sayılı |
| D) Bileşik | Basit | Tam Sayılı |

5. Bir kümeste 15 koyun, 5 inek ve 12 tavuk vardır. Bu kümesteki hayvanların ayak sayıları toplamı kaçtır?


- A) 84
- B) 104
- C) 124
- D) 32



6. Görseldeki sporcular 1.parkurda 1200 metre ve 2.parkurda 800 metre koşmuşlardır. Bu iki sporcu toplamda kaç km koşmuştur ?

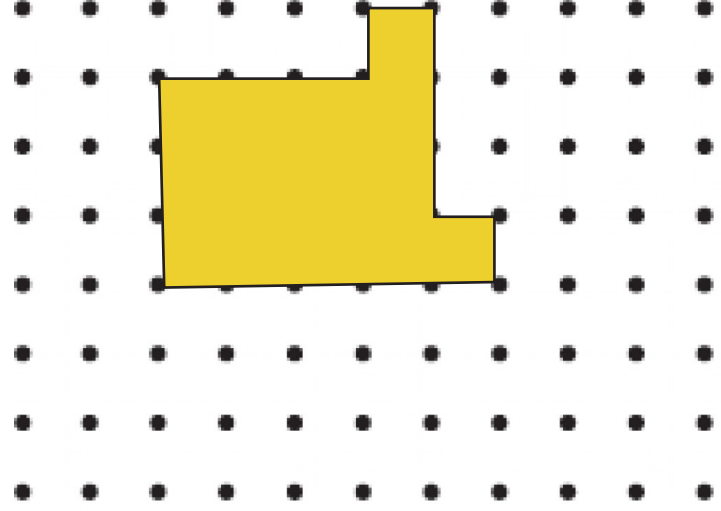
- A) 1 B) 2 C) 3 D) 4

7.



Yukarıdaki geometrik şekillerin köşe ve kenar sayıları hangi şıkta doğru verilmiştir ?

- A) 3 Kenar 3 Köşe
B) 7 Kenar 7 Köşe
C) 8 Kenar 8 Köşe
D) 5 Kenar 5 Köşe



8. Yukarıdaki izometrik kağıda çizilen geometrik şeklin çevresi kaç birimdir?

- A) 17 B) 18 C) 19 D) 20

9.

- I . 4dk 10 sn
II. 3 dk 50 sn
III. 250 sn
IV. 210 sn
V. 410 sn

Yukarıda verilen sürelerden hangi ikisi eşittir?

- A) I ve III B) I ve IV
C) III ve V D) II ve IV

10.

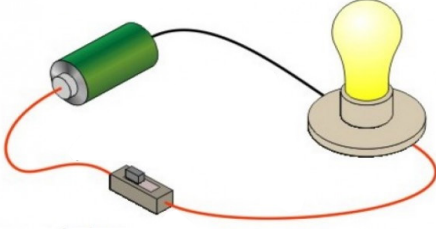
Bir kasada 30 incir vardır. Bu incirlerin $\frac{2}{5}$ 'i satılırsa kaç incir kalır?

- A) 12
B) 15
C) 16
D) 18



FEN BİLİMLERİ

1.



Yukarıdaki basit elektrik devresinde hangi devre elemanı yoktur ?

- A) Ampul
- B) Anahtar
- C) İletken kablo
- D) Priz

2. Ekonomik değeri olan kayalara ne denir?

- A) Mineral
- B) Maden
- C) Fosil
- D) Kaya

3. I. Gece gündüz oluşumu
II. Mevsimlerin oluşumu
III. Bir günün 24 saat olması
IV. Bir yılın 365 gün 6 saat olması

Yukarıdaki öncüllerden hangileri yıllık hareketin sonuçlarıdır?

- A) I ve II
- B) I ve III
- C) II ve IV
- D) III ve IV



4. Top oynarken yere düşüp dizini yaralayan Ömer'in yaralarının daha çabuk iyileşmesi için hangi besini tüketmesi gerekir?

A)



B)



C)



D)



5.

Mıknatısın kırmızı ucu her zaman hangi yönü gösterir?



- A) Kuzey
- B) Batı
- C) Güney
- D) Doğu

6.

> Maddenin boşlukta kapladığı yere denir.

> Ölçülebilen madde miktarına denir.

Boş bırakılan yerlere sırasıyla hangi kelimeler yazılmalıdır?

- A) Dara - Net kütle
- B) Dereceli silindir - Eşit kollu terazi
- C) Hacim - Kütle
- D) Ağırlık - Terazi

Ses kirliliğinin insan sağlığına olumsuz etkisi vardır.

Telefonu icat eden kişi Thomas Edison'dur.

7. Yukarıda verilen bilgiler doğru ise "D", yanlış ise "Y" harfi yazılacaktır. Buna göre doğru cevapların işaretlendiği seçenek hangisidir?

A)

D
D

B)

D
Y

C)

Y
Y

D)

Y
D

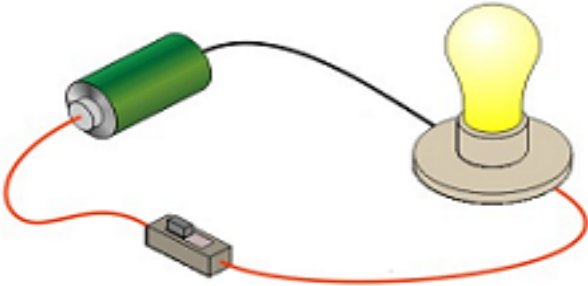
ilkokulodev.com

8. Aşağıdaki karışımlardan hangisini ayırmak için mıknatısla ayırma yöntemi kullanılır?

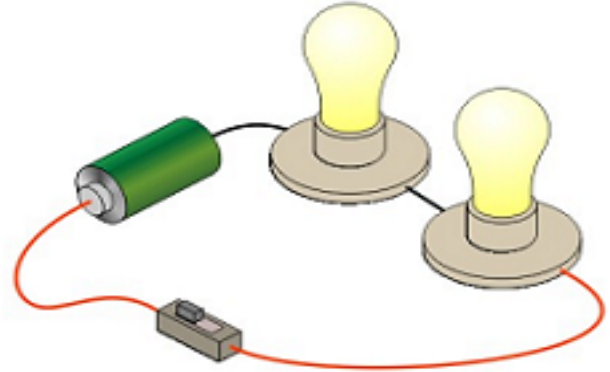
- A) Demir tozu - Toz şeker
- B) Kum - Çakıl
- C) Talaş - taş
- D) Pamuk - su

9. Aşağıdaki durumlardan hangisi hal değişimine örnek değildir?

- A) Yağın erimesi
- B) Yıkanan çamaşırların kuruması
- C) Kış mevsiminde pencerede su damlası oluşması
- D) Bardağın kırılması



Parlak



Az parlak

10. Yukarıdaki elektrik devrelerinde sağdaki devrenin daha az parlak olmasının sebebi nedir?

- A) Pilin sağladığı enerjiyi paylaştıklarından dolayı; ampul sayısı arttıkça, ampullerin parlaklığında azalma meydana gelir.
- B) Basit elektrik devrelerinde kabloların iletim gücü fark yaratır.
- C) Az parlak olan basit elektrik devresinde duyların kalitesi daha düşüktür.
- D) Anahtar açılmadığı için daha az parlak ışık vermektedir.




SOSYAL BİLGİLER

1. Aşağıdaki ürünleri kullanım alanlarına göre grupladığımızda hangisi dışta kalır?

- A) Projeksiyon aleti
- B) Tansiyon aleti
- C) Akıllı tahta
- D) Yazıcı

2. Aşağıdakilerden hangisi teknolojik ürünlerin zararlarından birisi değildir?

- A) Elektrik ile çalışanların elektromanyetik dalgalar yayması.
- B) Bazı teknolojik cihazların çok vakit harcanarak kullanılması.
- C) İnsanların 112 acil servisi gereksiz yere aramaları.
- D) Uzaktan eğitim döneminde canlı ders yapılması.

3.  Mustafa'nın istek ve ihtiyaçla ilgili düşüncelerinden hangisi yanlıştır ?

- A) İsteklerimiz ihtiyaçlarımızdan daha önemlidir.
- B) İstekler, kişiye göre değişiklik gösterebilir.
- C) Saatimiz varken yeni bir saat almayı düşünmek istektir.
- D) İhtiyaçlar her insan için geçerlidir.

4.

Kira	1000
Mutfak	1200
Faturalar	550
Taksitler	310
Diğer Giderler	500
Eğlence	



Fatih aile bütçesi için yukarıdaki gibi bir gider listesi hazırlamıştır. Ailesinin geliri 4000 TL olan Fatih, eğlence için ne kadar bir bütçe yazarsa planlamasını hatalı yapmış olur ?

- A) 500 TL
- B) 300 TL
- C) 200 TL
- D) 100 TL

5. Çocuk Haklarına Dair Sözleşme aşağıdakilerden hangisi tarafından kabul edilmiştir ?



- A) TBMM
- B) Avrupa Birliği
- C) Birleşmiş Milletler
- D) Anayasa Mahkemesi

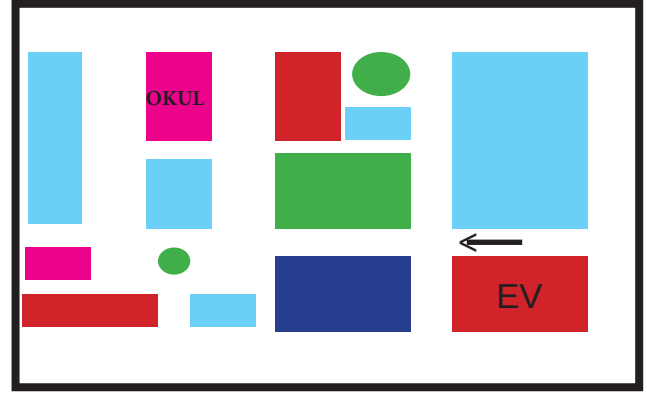
6. Aşağıdaki milli kahramanlardan hangisi Kurtuluş Savaşı zamanında Güney Cephesi'nde mücadele etmiştir ?

- A) Kazım Karabekir Paşa
- B) Tayyar Rahmiye Hanım
- C) Hasan Tahsin
- D) Nene Hatun

7. Aşağıdakilerden hangisi Türk Cumhuriyetleri'nden biri değildir ?

- A) Kazakistan
- B) Azerbaycan
- C) Türkmenistan
- D) Gürcistan

Kuzey
↑



8. Başkenti Tokyo olan ülkenin bayrağı aşağıdakilerden hangisidir?

- A)
- B)
- C)
- D)

9. Evinden en kısa yoldan okuluna gitmek isteyen Göksel sırasıyla hangi yöne doğru hareket etmiştir?

- A) Batı - Batı - Kuzey - Güney
- B) Batı - Kuzey - Güney - Güney
- C) Batı - Batı - Kuzey - Kuzey
- D) Doğu - Batı - Kuzey - Kuzey

10.



Atatürk'ün ülkemizi düşmanlardan kurtarmak için izlediği yollar, yaptığı kongreler ve düşmanların işgal ettiği yerleri gösteren yukarıdaki harita hangi olayı anlatmıştır?

- A) 1.Dünya Savaşı
- B) Kurtuluş Savaşı
- C) Bağımsızlık Savaşı
- D) Balkan Savaşları