

4.SINIF

**TAMAMEN
ÜCRETSİZ**

GÜNCEL DENEME SINAVI

**Eđitim Öğretim Yılı Sonu Genel
Deđerlendirme Sınavı**

15 Türkçe
15 Matematik
10 Sosyal Bilgiler
10 Fen Bilimleri
10 İngilizce

2020-2021 Eğitim Öğretim Yılına Hazırlık
Ortaokula Ne Kadar Hazırsın ?



İlkokul Ödev ve Deneme Sınavı Grubu



@ilkokulodev



İlkokul Ödev ve Deneme Sınavı Grubu



@ilkokulodev

Yazar ve Dizgi
Göksel Akıncı & Özkan AK

ilkokulodev.com

* Yeni Nesil Sorular
* Güncel Sorular
* Analitik Düşünme
* Güvenilir

Bir gün çok sevdiğim arkadaşım Cenk ile bahçede top oynuyorduk.

Tam oyun oynarken açlıktan çok bitkin düşmüş bir kedi yavrusu gördük. Cenk ve ben sevimli kediyi bu halde gördüğümüz için çok üzülmüştük. Daha sonra Cenk ile beraber bu sevimli kediye bakkaldan süt ve mama aldık ve onu güzelce doyurduk. Sevimli kedi, bize teşekkür edermiş gibi kafasını salladı.

Bu olaydan sonra sevimli kedi, yanımızdan hiç ayrılmadı ve mahallemizin sevimli yüzü oldu.

1) Okuduğumuz bu metnin bizlere vermek istediği asıl mesaj (anafikir) nedir?

- A) Arkadaşlarımızla güzel oyunlar oynamak bizi mutlu eder.
- B) Yardımlaşmak , canlılar arasındaki bağı güçlendirir.
- C) Kediler çok sevimli hayvanlardır.
- D) Kedileri beslemek için kedi mamasını tercih etmeliyiz.

Ayşe, evde rahat rahat çizgi film izlerken aklına bir anda yarın matematik sınavı olacağı gelir ve **etekleri tutuşur.**

2) Yukarıdaki cümledeki kırmızı renkli yazılan deyimın cümleye kattığı anlam nedir?

- A) Üzülme
- B) Telaşlanmak
- C) Sevinmek
- D) Heyecan

3) Aşağıdaki cümlelerden hangisi yandaki görseli destekler?



- A) Ali, uzun yıllar görmediği arkadaşıyla karşılaşınca çok şaşırıldı.
- B) Kerem, annesinin evde olmadığını fark edince çok sinirlendi.
- C) Musa, okula defterini getirmedeğini anlayınca çok üzüldü.
- D) Hasan, babasının ona aldığı oyuncak arabayı görünce çok sevindi.



4) Yukarıdaki görsellerdeki anlam ilişkisi aşağıdakilerden hangisinde vardır?

A)



B)



C)



→ Ev
→ Konut
→ Hane

D)



5) Aşağıdaki cümlelerin hangisinde “ de/da” nın yazımında yanlışlık yapılmıştır?

- A) Kardeşim Samet'in evde olduğunu öğrendince çok mutlu oldum.
- B) Okul da olduğum zamanları çok özledim.
- C) Umut'un oyuncak arabasının aynısından bende de var.
- D) Biz Ayşe ile parka gideceğiz. Sen de gelmek ister misin ?

6)

Güzel evim canım evim,
Seni ne çok düşünürüm bilemezsin.
Her gün , her saat, her dakika,
Tütürsin burnumda minik,tatlı evim.

Yukarıdaki dörtlüğün ana duygusu aşağıdakilerden hangisidir?

- A) Sevgi
- B) Öfke
- C) Mutluluk
- D) Özlem

7)

Cenk,derslerinde çok başarılı bir öğrenciydi. Cenk, bir gün Ahmet adında bir çocukla arkadaş oldu. Ahmet çok tembel bir öğrenciydi. Cenk ,Ahmet ile arkadaş olunca derslerini unuttu. Cenk artık hiç ders çalışmamaya ve sürekli Ahmet ile birlikte oyun oynamaya başladı. Ve korkulan oldu. Artık Cenk de tembel bir öğrenci oldu.

Yukarıdaki durumu en iyi anlatan atasözü aşağıdakilerden hangisidir?

- A) Komşu komşunun külüne muhtaçtır.
- B) Üzüm üzümüne baka baka kararır.
- C) Terzi kendi söküğünü dikemez.
- D) Emeksiz yemek olmaz.

8) Aşağıdakilerden hangisinde “ SOĞUK “ kelimesi gerçek anlamıyla kullanılmamıştır?

- A) Havalar soğuk olduğunda kalın giysiler giyeriz.
- B) Ahmet , bugün bana karşı çok soğuk davranıldı.
- C) İrem, diş sağlığını korumak için çok soğuk içecekler içmez.
- D) Musluğu açtığımda suyun çok soğuk aktığını fark ettim.

9) Aşağıdakilerden cümlelerin hangisine “NİÇİN ?” sorusunu sorduğumuzda cevap alamayız ?

- A) Kemal'in uzun boylu olmasının nedeni küçükken çok süt içmesidir.
- B) Yılmaz,derslerine çok çalıştığından her zaman takdir belgesi alır.
- C) Spor yapmayı ihmal etmemeliyiz.
- D) Kış mevsiminde kalın giysiler giymediğim için hasta oldum.

10) Aşağıdaki cümlelerin hangisinde “ KARŞILAŞTIRMA” yapılmamıştır?

- A) Selin'in boyu Ali'nin boyundan 5 santimetre (cm) daha fazladır.
- B) Sınıfta en kısa boylu öğrenci Ali, en uzun boylu öğrenci Orhan'dır.
- C) Öğretmenimiz bizi sınavdan aldığımız puanlara göre sıraladı.Buna göre sınıf 1.si Nur, 2.si de Esin oldu.En kötü notu alan Ayşe oldu.
- D) Murat, yemek yemek için sofraya oturdu.



YILDIZ SPOR MERKEZİ



*Kursumuza, 9 ile 12 yaş arası çocuklar katılabilir.

*Kursumuz; Basketbol, Voleybol ve Futbol alanlarında olacaktır.



Telefon: 512 6820

11) Yukarıdaki kurs tanıtım afişi ile ilgili hangi bilgi yanlıştır?

- A) Afişte kursun telefon ile iletişim bilgisi hakkında bilgi verilmiştir.
- B) Kurs afişinde, kursun hangi alanlardan yapılacağı hakkında bilgi vardır.
- C) Kurs afişinde bu kursun ulaşım adresi hakkında bilgi yer almaktadır.
- D) Kurs afişinde katılacak çocukların yaş aralığı yazmaktadır.

12) Aşağıdaki cümlelerden hangisi bir " HİKAYE " den alınmış olabilir?

A)

Maddenin hali 3 tanedir. Bunlar katı, sıvı ve gazdır. Katı maddeler eriyince sıvı, sıvı maddeler buharlaşınca gaz olur.

B)

Leyla, sabah yolda yürürken sevimli ama hasta bir köpek görmüştür. Onu iyileştirmek için veterinerine götürmüştür.

C)

Vatanını sev,
Bayrağını koru.
Al sancak için,
Çalış, üret, oku.

D)

1,3,5,7,9 tek sayıdır.
0,2,4,6,8 çift sayıdır.
En küçük çift sayı 0'dır.

Bazı şeyler vardır. Biz bunları kitaplardan okuruz ama gerçek hayatta böyle şeylerin olmayacağını biliriz. Masallarda olur böyle şeyler.

13) Hangi cümle yukarıda yazılan duruma örnektir?

- A) Sevimli Kedi ile Osman gün boyu sohbet ettiler.
- B) Murat, okulda çok güzel zaman geçiriyor.
- C) Seray ile İrem bahçede ip atladılar.
- D) Elif ile Eda ödevlerini beraber yaptılar.

Ufuk, bilim ve buluş konularına çok meraklıdır. Sürekli araştırır, öğrenir ve merakını giderir. Ufuk, en son Gazi Yaşargilin hayatını araştırmıştır.

14) Yukarıdaki cümlede yapılan yazım ya da noktalama hatası nedir?

- A) Nokta ve virgül işaretleri yanlış ya da eksiktir.
- B) Özel isimleri gelen ekleri ayırmak için kullanılan işaret eksiktir.
- C) En az üç tane kelime yanlış yazılmıştır.
- D) Soru işareti kullanması gereken yerde kullanılmamıştır.

- 1- Ardından, en sevdiği tişörtünü giydi.
- 2- Ayhan, sabah erkenden uyandı.
- 3- En sonunda arkadaşıyla buluşmak için evden ayrıldı.
- 4- Sonra, kahvaltısını etti ve elini yıkadı, dişlerini fırçaladı.
- 5- Uyandıktan sonra elini ve yüzünü yıkadı.

15) Numaralanmış cümleler olayın akışına göre nasıl sıralanmalıdır?

- A) 2,5,4,1,3
- B) 3,1,2,4,5
- C) 3,5,2,4,1
- D) 2,4,5,1,3

*TÜRKÇE BÖLÜMÜ BİTMİŞTİR.

*MATEMATİK BÖLÜMÜNE GEÇİNİZ.

1) Zürafa ve Maymun , Matematik dersinde öğrendikleri konuyu pekiştirme amacıyla sınıf arkadaşlarına soru sormaktadır.



Hey!

Ben, bu sayının **BİNLER BÖLÜĞÜYÜM**.
Bende 3 tane onbinlik ve 6 tane binlik var.



Ben de, bu sayının **BİRLER BÖLÜĞÜYÜM**.
Bende de 6 tane onluk, 5 tane yüzlük, 3 tane birlik var.

Zürafa ve Maymun'un binler ve birler bölümünü verdiği sayının okunuşu hangisidir?

- A) üç yüz altmış bin beş yüz üç
- B) otuz altı bin altı yüz elli üç
- C) otuz altı bin beş yüz altmış üç
- D) altı yüz elli üç bin otuz altı.

6

5

3

7

4

Yeliz öğretmen, sınıfımıza yukarıda gördüğümüz renkli topları getirmiştir.

Bizden de bu toplarlardaki rakamlardan, rakamları farklı en büyük beş basamaklı sayıyı bulmamızı istiyor.

2) Buna göre bulacağımız sayının yüzler basamağındaki rakam kaç olmalıdır?

- A) 4
- B) 5
- C) 6
- D) 7

3) **1283+245**

Yukarıda verilen toplama işlemini sayıları en yakın yüzlüğüne yuvarlayarak tahmini toplama işlemi yapmak isteyen Burcu, bu işlemin sonucunu kaç olarak bulur?

- A) 1800
- B) 1700
- C) 1600
- D) 1500

4) Koronavirüsten korunmak için kullandığımız maskeleri üreten 4 farklı fabrikanın ürettiği maske sayıları aşağıdaki tabloda gösterilmiştir.

A FABRİKASI	97 950
B FABRİKASI	8 098
C FABRİKASI	105 547
D FABRİKASI	9 999

Tabloya göre aşağıdaki bilgilerden hangisi yanlıştır?

- A) Tabloya göre en az maskeyi B FABRİKASI üretmektedir.
- B) Tabloya göre B FABRİKASI, D FABRİKASI'ndan daha az maske üretmektedir.
- C) Tabloya göre A FABRİKASI, C FABRİKASI'ndan daha fazla maske üretmektedir.
- D) Tabloya göre en çok maskeyi C FABRİKASI üretmektedir.

360-330-300- (▲)- 240-(●)

5) Yukarıdaki tabloda belirli bir kurala göre giden bir örüntü oluşturulmuştur.

Bu kurala göre boş bırakılan ▲ ve ● şekillerindeki sayıların toplamı kaçtır?

- A) 210
- B) 270
- C) 360
- D) 480

Bilgisayardan matematik oyunu oynayan Ali ve Cenker ,bu oyundan aldıkları puanları karşılaştırıyor.



Cenker: 13 874



6) Bu tabloya göre aşağıdaki bilgilerden hangisi yanlıştır?

- A) Ali ile Cenker'in puanları toplamı 39 810 'dur.
- B) Cenker' in puanı Ali'nin puanından 12 162 eksiktir.
- C) Ali ile Cenker'in puanlarının farkı 12 062'dir.
- D) Cenker'in biriktirdiği puan , Ali'nin biriktirdiği puandan daha azdır.



Özge, kitap okumayı çok seven bir öğrencidir.

Şu ana kadar evinde 280 tane kitap biriktirmiştir.

Özge, bu kitapları her rafın içinde 14 tane kitap olacak şekilde

raflara dağıtmak istiyor.

7) Özge'nin kitaplarını koymak için kaç tane rafa ihtiyacı vardır?

- A)20
- B)30
- C)40
- D)50

Pınar, Deniz ve Kenan bir cep telefonu uygulaması üzerinden bir günde attıkları adım sayılarına bakmaktadırlar.

Pınar'ın bir günde attığı adım sayısı 6 845 'tir.
Kenan'ın bir günde attığı adım sayısı 4 236 'dır.

8) Üç arkadaşın toplam adım sayısı 13 554 olduğuna göre Deniz'in attığı adım sayısı kaçtır?


- A) 2473
- B) 2650
- C) 2746
- D) 3001

Bir sınıfta başlangıçta 36 öğrenci vardır. Önce bu sınıftaki öğrencilerin dörtte biri başka okula gitmiştir. Daha sonra kalanların üçte ikisi kadar yeni öğrenci gelmiştir.

9) Son durumda bu sınıfta kaç öğrenci kalmıştır?

- A) 25
- B) 35
- C) 45
- D) 55

10)



Ramazan Bayram'ı alışverişi için markete giden Rasim Bey, her poşetin içinde 16 şeker bulunan poşetlerden 4 tane almıştır.

Bir tane şekerin 25 kuruş olduğu bilindiğine göre, Rasim Bey bu şekerler için toplam kaç kuruş ödeyecektir ?

- A) 1000 kuruş B) 1400 kuruş
C) 1600 kuruş D) 1800 kuruş



Evin genç çocuğu Ferhat, evin en büyüğü olan dedesi ile yaşlarını hesaplamıştır.

Dedesi, Ferhat' a şöyle diyor:
- Benim yaşım senin yaşının 7 katının 16 eksigidir.

11) Ferhat'ın yaşının 13 olduğunu bildiğimize göre Ferhat'ın dedesinin yaşı kaçtır?

- A) 65
B) 75
C) 80
D) 85

I: Sınıf panosu


II: Sınıf panosundaki resimler

III: Halı

IV: Halının üzerindeki şekiller

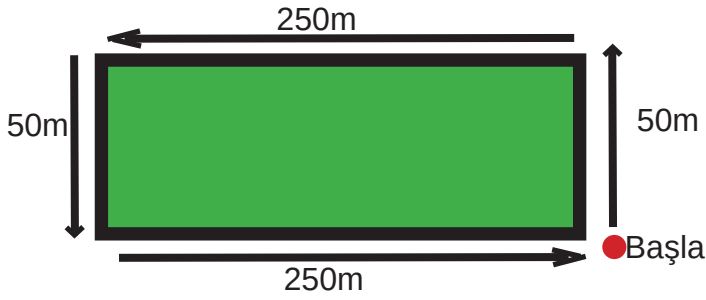
12) Yukarıda numaralandırılanların hangileri düzlem modelidir ?

- A) I ve II
B) II ve III
C) II ve IV
D) I ve III



13) Yukarıdakileri açı türlerine göre sınıflarsak hangisi doğru olur ?

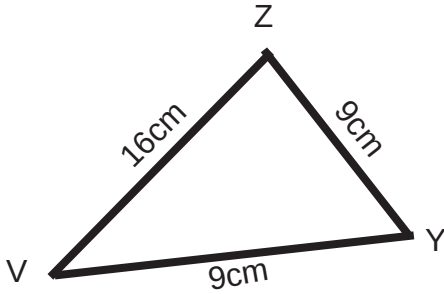
- | | | |
|-----------------|---------------|----------------|
| A) I: geniş açı | II: dar açı | III: dar açı |
| B) I: dar açı | II: dik açı | III: geniş açı |
| C) I: dik açı | II: dar açı | III: geniş açı |
| D) I: dik açı | II: geniş açı | III: dar açı |



Jale Hanım, tatilini en güzel şekilde değerlendirmek için parka yürüyüş yapmaya gider. Jale Hanım, kırmızı renkli noktadan başlayarak, ok yönünde ilerliyor ve başladığı noktaya geldiğinde yürüyüşünü bitiriyor.

14) Jale Hanım, başladığı noktaya geri döndüğünde kaç metre yol almıştır?

- A) 400 m
- B) 500 m
- C) 600 m
- D) 700 m



15) Yukarıdaki üçgen hakkındaki bilgilerden hangisi doğrudur?

- A) Bütün kenarları eşit olup, eşkenar üçgendir.
- B) İki tane kenarı birbirine eşit olup, eşkenar üçgendir.
- C) İki tane kenarı birbirine eşit olup, ikizkenar üçgendir.
- D) Bütün kenarları birbirinden farklı olup, çeşit kenar üçgendir.

*MATEMATİK BÖLÜMÜ BİTMİŞTİR.
*SOSYAL BİLGİLER BÖLÜMÜNE GEÇİNİZ.

SOSYAL BİLGİLER





(Bu bölümde 10 soru bulunmaktadır.)



1) Kişisel bilgilerimizin yer aldığı yeni kimlik kartında aşağıdaki bilgilerden hangisine ulaşamayız ?

- A) Yeni kimlik kartlarında elektronik çip özelliği bulunmaktadır.
- B) Yeni kimlik kartlarının sağ alt köşesinde Türkiye Cumhuriyeti vatandaşı olduğumuzu gösteren (TC/TUR) yazısı yer alıyor.
- C) Yeni kimlik kartları, erkekler için mavi , kadınlar için pembe renklidir.
- D) 15 yaşından küçük çocukların T.C Kimlik Kartı'nda resimleri bulunmak zorunlu değildir.

2) Aşağıdaki teknolojik araçlardan hangisi temizlik amacıyla bize yardımcı olmaktadır?

- A) 
- B) 
- C) 
- D) 

Benim adım Aras.

Bugün sınıfımızda çok üzücü bir olay yaşandı. Matematik dersinde öğretmenimiz, sınıfımızda orta derece görme engeli olan arkadaşımızı tahtaya çıkardı. Arkadaşımız da bir an önünü göremeyerek birazcık tökezledi, tam düşecekken biz onun kolundan tutarak tahtaya çıkmasına yardımcı olduk.

Tam o sırada sınıfımızın en yaramaz öğrencilerinden Berat:

-Nasıl düştü ama ! Diye bağırarak gülerken engelli arkadaşımızla alay etti.

Biz sınıfça bu duruma çok sinirlendik ve Berat'a dedik ki:

-Yaptığın çok yanlış. Sen de bu arkadaşımız gibi olabilirdin. Lütfen kendini biraz onun yerine koymayı dene !

3) Sınıf arkadaşlarının Berat'a söyledikleri hangi beceriyi kazandırmaya yöneliktir?

- A) Sevgi
- B) Empati
- C) Dayanışma
- D) Yetenek

4) Aşağıdakilerden hangisi deprem sırasında alınması gereken önlemlerden biridir ?

- A) İlk yardım çantası hazırlamalı ve temel ihtiyaçlarımızı içinde bulundurmamız.
- B) Binaları sağlam ve depreme dayanıklı olarak yapmalıyız.
- C) Bina içersindeyse, paniğe kapılmadan , " çömel, tutun, kapan" hareketi yapmalıyız.
- D) Acil durum planı hazırlamalıyız.

5) Mustafa Kemal Atatürk, Mondros Ateşkes Antlaşması'dan sonra işgalcilerin; limanlarımızı, demir yollarımızı , telgrafhanelerimizi denetim altına alıp topraklarımızı işgali üzerine, bu işgalcilerin ülkemizden kovulacağına inancını kaybetmediğini hangi sözüyle dile getirmiştir?

A)



B)



C)



D)



Sakarya Savaşı'nın kazanılmasında cephe-
de savaşan askerlerimiz gibi cephe gerisinde
mermi taşıyan insanların da önemi bü-
yüktür. İstanbul'dan gizlice ele geçirilen silah
ve cephaneler "İstiklal Yolu" güzergahından
taşıyordu. Ve bu konuda en büyük fedakarlı-
ğı kadınlar üstleniyordu.
Bunlardan Kastamonulu gece ve
kar demeden kağnısıyla cephaneye taşıdı.

**6) Yukarıda anlatılan kadın kahramanımı-
zın adı nedir?**

- A) Zübeyde Hanım
- B) Şerife Bacı
- C) Nene Hatun
- D) Makbule Hanım

7)

1999 yılında
Doğdum.

I

2020 yılında
evlendim.

II

2006 yılında
okula
başladım.

III

2017 yılında
liseyi bitirdim.

IV

Aslı, hayatındaki önemli olayları kronolojik sı-
raya koymak istemiştir. Bunu yaparken yukarı-
da gördüğümüz gibi sıralama hatası yapmıştır.

**Aslı, hayatındaki önemli olayları kronolojik
sıralamaya göre doğru olarak hangi şekilde
sıralamalıdır?**

- A) I , II, IV, III
- B) I , III, II, IV
- C) I , III ,IV ,II
- D) I , II , IV, III

**8) Aşağıdakilerden hangisini yapan bilinçli
bir tüketici değildir?**

- A) En pahalı ürün en iyi üründür diye düşü-
nür.
- B) Ürünün üzerinde TSE damgası olmasına
dikkat eder.
- C) Aldığı ürünün Son Tüketim Tarihi'ne ba-
kar.
- D) Alışveriş yaptıktan sonra fişini alır.

**9) Aşağıdakilerden hangisi milli kültür öğe-
lerimizden biri değildir?**


A)



B)



C)



D)

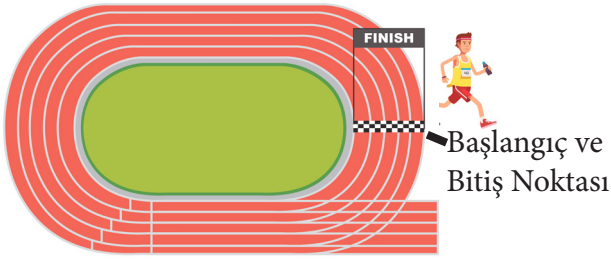


ilkokulodev.com

**10) Yön bulma ile bilgilerden hangisi yan-
lıştır?**

- A) Kutup Yıldızı'nın yönü her zaman kuzey-
dir.
- B) Günümüzde yön bulmak için GPS 'den
yararlanılmaktadır.
- C) Karıncalar, yönümüzü bulmamızda bize
yardımcı olamaz.
- D) Ormanlık alanlarda veya açık arazide yön
bulmak için ağaç ve taşlardan yararlanırız.

**SOSYAL BİLGİLER BÖLÜMÜ BİTMİŞTİR.
FEN BİLİMLERİ BÖLÜMÜNE GEÇİNİZ.



Arkadaşımız Efe,yukarıda gördüğümüz koşu par-
kurunda Başlangıç noktasından başlayarak Bitiş
noktasına kadar koşuyor.

1) Efe'nin yaptığı koşu ile ilgili olarak aşağıdaki bilgilerden hangisine ulaşamayız?

- A) Efe'nin yaptığı hareketi , Dünya'nın kendi eksenini etrafında yaptığı harekete benzetebiliriz.
- B) Efe'nin yaptığı hareketi, Dünya'nın Güneş etrafında yaptığı harekete benzetebiliriz.
- C) Efe'nin yaptığı hareket,dolanma hareketidir.
- D) Efe'nin yaptığı hareket,bir şeyin etrafını dolanarak yapılan hareket olduğundan dönme hareketi değildir.

Aşağıdaki görevleri verilen devre elemanları ile bu devre elemanlarının resimlerini eşleştirmek istiyoruz.

- I. Ben, devreyi açıp kapayan devre elemanıyım.
- II. Ben elektrik akımını ileten devre elemanıyım.
- III. Ben devredeki elektrik enerjisini ışık enerjisine dönüştürürüm.
- IV. Ben devreye elektrik enerjisi sağlarım.

2) Yukarıdaki numaralandırılmış özelliklerin verildiği kutucuktaki devre elemanları aşağıdaki-
lerden hangisidir?

- A) I:Pil II:Ampul III:Bağlantı kablosu IV:Anahtar
- B) I:Ampul II:Anahtar III:Pil IV:Bağlantı kablosu
- C) I:Bağlantı kablosu II:Pil III:Ampul IV:Anahtar
- D) I:Anahtar II:Bağlantı kablosu III:Ampul IV:Pil



I numaralı
Mıknatıs

II numaralı
mıknatıs

Mıknatısları bu şekilde
yaklaştırın

Yukarıdaki şekilde görmüş olduğumuz I ve II numaralı mıknatıslar şekilde gördüğümüz gibi birbirine yaklaştırılıyor.

3) Bu işlem ile ilgili aşağıdaki bilgilerden hangisine ulaşabiliriz?

- A) Bu iki mıknatıs birbirine yaklaştırıldığında mıknatıslar birbirini iterler.
- B) İki mıknatısı yaklaştırdığımızda aynı kutuplar karşı karşıya gelmektedir.
- C) İki mıknatısı yaklaştırdığımızda mıknatıslar birbirini çekmezler.
- D) I ve II numaralı mıknatısları yaklaştırdığımızda farklı kutuplar karşı karşıya gelmektedir.

Markette evdeki ihtiyaçlarını karşılamak için alışveriş yapmaya çıkan Lale Hanım, marketten alacağı şey çok olduğu için market arabası kullanmıştır.Leyla Hanım,market arabasını ileriye doğru sürerken arabanın çok hızlı ileriye gittiğini görür ve onu yavaşlatmak için arabayı kendisine doğru çeker ve arabayı yavaşlatır.



Leyla Hanım Market arabası

4) Leyla Hanım'ın market arabasına uyguladığı kuvvet hakkındaki bilgilerden hangisi doğrudur?

- A) Leyla Hanım,market arabasına,kendi hareketi yönünde bir kuvvet uygulamıştır.
- B) Leyla Hanım market arabasının yavaşlaması için itme kuvveti uygulamıştır.
- C) Leyla Hanım,market arabasına kendi hareket yönünün tersinde bir kuvvet uygulamıştır.
- D) Leyla Hanım'ın market arabasına uyguladığı kuvvet çekme kuvveti değildir.

Beni tüketirsen seni soğuklara karşı korurum.

Vücudunun enerjiye ihtiyacı varsa ilk olarak beni tüket.

Ben sizin büyüme ve gelişmeniz için çok önemliyim.

5) Yukarıdaki şekillerin içinde söylenen besinler ile ilgili aşağıdaki bilgilerden hangisi doğrudur?

- A) Sarı karede özelliği söylenen besinler karbonhidratlardır.
- B) Mavi üçgen içerisinde söylenen besinler yağlardır.
- C) Yeşil daire içinde söylenen besinler proteinlerdir..
- D) Sarı karede söylenen besin maddeleri yağlardır.

- I: Bu maddelerin bir şekli ve hacmi yoktur.
II: Bu maddelerin şekli yoktur ama hacmi vardır.
III: Bu maddelerin şekli ve hacimleri vardır.



Su



Portakal Suyu



Buz



Benzin

6) Yukarıda numaralandırılmış madde özellikleriyle aşağıdaki maddeleri eşleştirmek istiyorsak, aşağıdakilerden hangisi gibi bir eşleştirme yapmalıyız?

	Şişirilmiş balon	Portakal suyu	Buz	Benzin
A)	I	II	III	II
B)	I	III	II	I
C)	II	I	III	I
D)	II	III	I	II

Aşağıdaki görselde; Ali ve Burak'ın alkol ve sigara ve alkol kullanımı ile ilgili görüşlerine yer verilmiştir:

ALİ



Sigara içmek soluk alıp verme organlarımıza zarar verir.Ancak alkol kullanmanın soluk alıp vermemize zararı yoktur.

BURAK



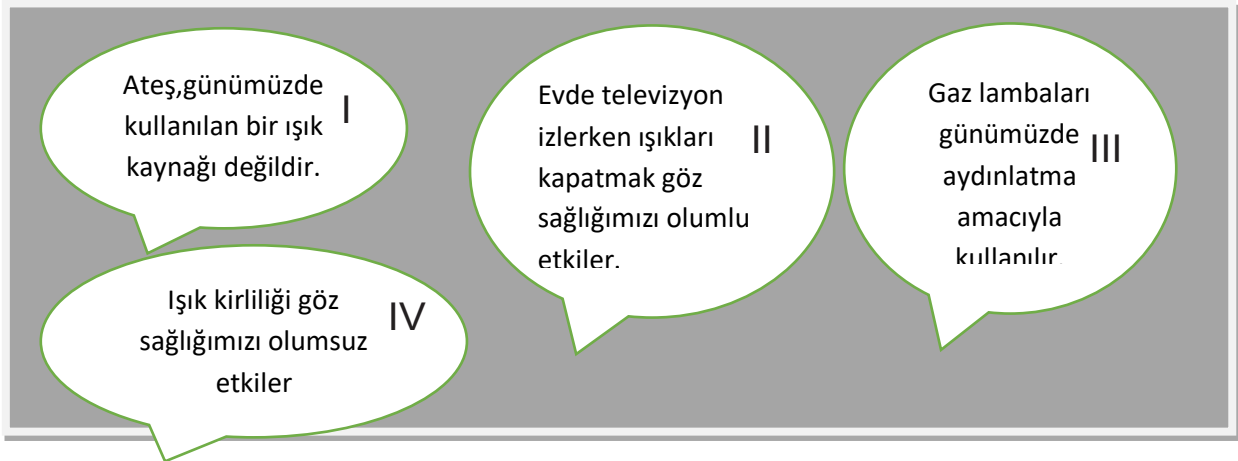
Sigara içmek kanser riskini artırır ancak alkol kullanmak sadece bilincimizi kaybetmemize yol açar.Alkol kullanan bir insan kanser olmaz.

7)

Ali ve Burak'ın görüşlerine göre hangisinin ya da hangilerinin verdiği bilgiler doğru değildir?

- A) Ali'nin verdiği bilgi doğrudur, Burak'ın verdiği bilgi yanlıştır.
- B) Her ikisinin verdiği bilgi doğrudur.
- C) Burak'ın verdiği bilgi doğrudur, Ali'nin verdiği bilgi yanlıştır.
- D) Her ikisinin verdiği bilgi yanlıştır.

8)



Işık kaynakları ve göz sağlığı hakkında dört bilgi notu:

- I** Ateş, günümüzde kullanılan bir ışık kaynağı değildir.
- II** Evde televizyon izlerken ışıkları kapatmak göz sağlığımızı olumlu etkiler.
- III** Gaz lambaları günümüzde aydınlatma amacıyla kullanılır.
- IV** Işık kirliliği göz sağlığımızı olumsuz etkiler.

Öğretmenimiz, sınıf panosuna ışık ve göz sağlığımız hakkında bilgi notları asmıştır. Ancak bu bilgi notlarından bir ya da bir kaç tanesi yanlıştır. Arkadaşımız Ahmet, bu bilgi notlarından yanlış olanı bularak sınıf panosundan çıkarıyor.

Ahmet, aşağıdaki bilgi notlarından hangisini ya da hangilerini çıkarmalıdır?

- A) I ve II
- B) Yalnız II
- C) II ve III
- D) Yalnız IV



Su



Boş cam
bardak




İçinde su
olan bardak

Cemal Öğretmen, 4.sınıf öğrencilerine akıllı tahtadan yukarıda gördüğümüz üç görseli göstererek, sıvı madde olan suyun kütlesi hakkında öğrencilerden yorum yapmalarını istemektedir.

9) Aşağıdaki öğrenci yorumlarından hangisi yanlıştır?

- A) Şekil II 'de bardak boş olduğu için bulduğumuz kütle DARA 'dır.
- B) Şekil III'te bardak ile içindeki suyun kütlesi toplamı NET KÜTLE'dir.
- C) Şekil I ' de bardaktan çıkartılmış olan suyun kütlesi , NET KÜTLE' dir.
- D) BRÜT KÜTLE, sıvı madde ile bu sıvı maddenin içinde bulunduğu kabın kütleleri toplamıdır.

10)



Tuzlu su
I



İşlenmemiş Demir
II



Ayran
III

Yukarıdaki numaralandırılmış görselleri saf madde ve karışım olma durumuna göre eşleştirirsek aşağıdaki eşleştirmelerden hangisi doğru olur?

	<u>Saf Madde</u>	<u>Karışım</u>
A)	Yalnız I	II ve III
B)	Yalnız II	I ve III
C)	I ve III	Yalnız II
D)	II ve III	Yalnız I

*FEN BİLİMLERİ BÖLÜMÜ BİTMİŞTİR.
*İNGİLİZCE BÖLÜMÜNE GEÇİNİZ.

Where is Aleksandra
....I....?

Aleksandra is from....II.....

...III...is Georgio from?

Georgio is from Italy.

Where .IV..Carol from?



France - Carol



Germany - Aleksandra



Italy - Georgio

1) Complete the dialogue. Which one is true?

- A) I:Germany II:Where III:from IV:is
B) I:from II:Germany III:Where IV:is
C) I:is II:from III:Germany IV:Where
D) I:Where II:is III:from IV:Where


4) What time is it?



- A) It's seven o'clock.
B) It's six o'clock.
C) It's ten o'clock.
D) It's twelve o'clock.



Burak
and Cenk



Aslı
and Efe



Osman

2) Look at the pictures. Which one is true?

- A) Aslı and Efe can play the football.
B) Osman can sing a song.
C) Burak and Cenk can't play the football.
D) Osman can swim.

3) Where is the apple ?



- A) The apple is, on the box.
B) The apple is, behind the box.
C) The apple is, in front of the box.
D) The apple is, near the box.

5) Which one is true about Ömer?

- A) He is blonde.
B) He has curly hair.
C) He has long hair.
D) He has blue eyes.





.....I.....
the door.

.....II.....
at the board.

.....III.....
me the ruler.

6) Match the rules and numbers. Which one?

- A) I: close II: look III: give
B) I: turn II: close III: look
C) I: give II: close III: turn
D) I: look II: turn III: give



I

II

III

IV


7) Which one is true?

- A) I: go to the school II: do homework
 III: have breakfast IV: wake up
B) I: do homework II: have breakfast
 III: wake up IV: go to the school
C) I: have breakfast II: wake up
 III: go to the school IV: do homework
D) I: wake up II: have breakfast
 III: go to the school IV: do homework

Name	Running activities (Like or Dislike)	Listening to music activities (Like or Dislike)
Utku		
Can		
Orhan		

8) Which one is true?

- A) Utku doesn't like running.
B) Can likes listening to music.
C) Orhan doesn't like running.
D) Utku likes listening to music.



I


II

III

IV

9) What is their job?

- A) I: policeman II: vet III: fireman IV: doctor
B) I: fireman II: singer III: policeman IV: vet
C) I: vet II: policeman III: singer IV: fireman
D) I: singer II: fireman III: vet IV: doctor



I

II

III

Look at the pictures. Find the true free time activities.

10) Which one is true?

- A) I: reading II: singing III: playing
B) I: watching II: reading III: singing
C) I: reading II: playing III: watching
D) I: playing II: watching III: singing

*Sınav bitmiştir cevaplarınızı kontrol edin ve son sayfadaki değerlendirme ölçeğinden notunuzu öğrenin.