

Saygıyı, sevgiyi, arkadaşlığı,
Okumayı, yazmayı, sayı saymayı,
Güzel güzel oyunlar oynamayı,
Seninle öğrendim okulum.

İp atlar, top oynardık.
Ders yapar, kitap okurduk.
Zihnimizi bilgilerle doldurduk.
Ne güzelsin sen okulum.

Nazır Peker

(1 ., 2. ve 3. soruyu yukarıdaki şiire göre cevaplayınız.)

1) Yukarıdaki şiire en uygun başlık hangisidir?

- A) Sevgi ve Saygı B) Güzel Okulum
C) Oyun Oynamak

2) Şiirin ana duygusu hangisidir?

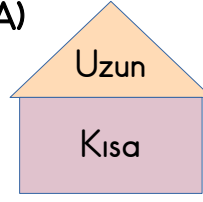
- A) Okul sevgisi B) Arkadaş sevgisi
C) Kitap sevgisi

3) Şiir ile ilgili verilen bilgilerden hangisi doğrudur?

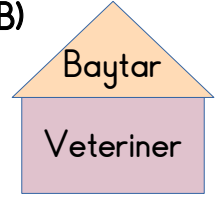
- A) Şiir 8 kıta ve 2 dizeden oluşmuştur.
B) Şiir 2 kıta ve 8 dizeden oluşmuştur.
C) Şiir 8 kıta ve 8 dizeden oluşmuştur.

4) Yandaki evin çatısında yazan ve üzerinde yazan kelimeler arasındaki ilişki hangisinde vardır?

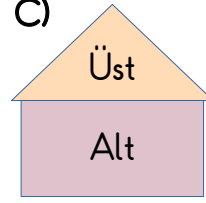
A)



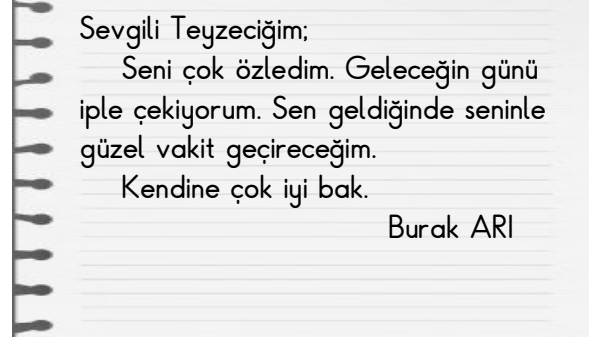
B)



C)



5)



Yukarıda bir kısmı verilen yazı hangisine örnektir?

- A) Anı B) Mektup C) Davetiye

6) Eyvah () dışarıda kaldık () Şimdi evin kapısını nasıl açacağız ()

Yukarıdaki parantez içlerine gelecek noktalama işaretleri hangisinde sırasıyla verilmiştir?

- A) ! . . B) , . ? C) , ! ?

7) iyi zaman geçiririm her arkadaşıyla
1 2 3 4 5

Alper kutulardaki kelimelerle kurallı bir cümle oluşturmak istiyor.

Alper'in kurduğu cümlenin sıralaması aşağıdakilerden hangisidir?

- A) 5 4 2 1 3
B) 5 1 3 4 2
C) 4 5 1 2 3

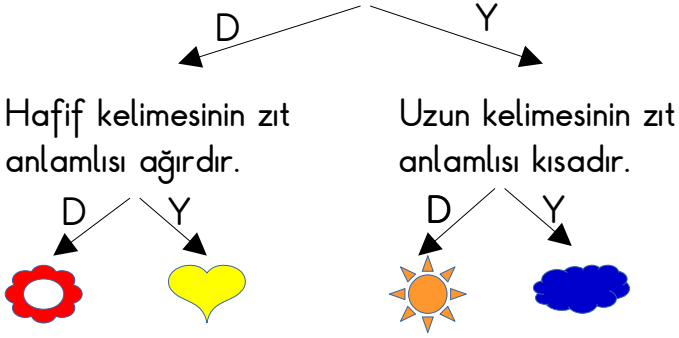
8) Ayşe ve kardeşi parkta salıncağa bindiler. Ayşe kardeşini salladı. Sonra birlikte kaydırdan kaydılar.



Metinde hangi hikaye unsuru yoktur?

- A) Zaman B) Kahraman C) Yer

9) Hekim sözcüğünün eş anlamlısı doktordur.



Yukarıdaki ifadeleri doğru olacak şekilde takip edersek hangisine ulaşırız?

- A) B) C)

10)

Çalışmaları printerden çıkardım.

Annem bana laptop aldı.

Belgeyi scannerden taradım.

Yukarıdaki altı çizili kelimelerin Türkçeleri sırasıyla hangisinde doğru verilmiştir?

- A) Tarayıcı – Yazıcı – Dizüstü bilgisayar
B) Dizüstü bilgisayar – Yazıcı – Tarayıcı
C) Yazıcı – Dizüstü bilgisayar – Tarayıcı

11) Aşağıdaki cümlelerin hangisinde yazım yanlışı yapılmıştır?

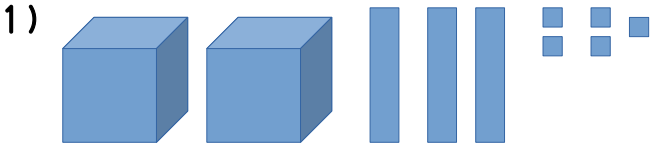
- A) Dolmabahçe Sarayı, İstanbul'dadır.
B) Kardeşim, Uşak Üniversitesi'nde okuyor.
C) Akşam, Sema'lara gideceğiz.

12)

iki fırçalarım günde az defa dişlerimi en
H T E A A S Y

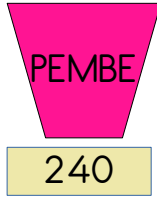
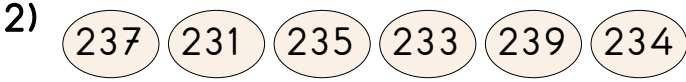
Yukarıdaki verilen kelimelerle anlamlı ve kurallı bir cümle oluşturulduğunda ortaya çıkan kelimenin eş anlamlısı hangisidir?

- A) Yolculuk B) Eğlence C) Yürüyüş



Yukarıdaki taban bloklarıyla oluşturulan sayı hangisidir?

- A) 235 B) 253 C) 343



Kerem üzerinde sayı yazan bilyelerini en yakın onluğa yuvarlama oyunu oynamaktadır. Buna göre Kerem, hangi bilyeyi hangi torbaya koyarsa oyunu başarıyla tamamlar?

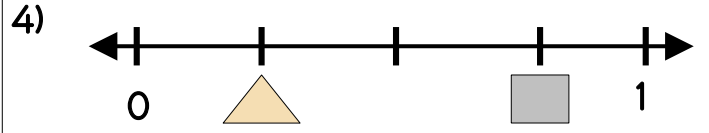
YEŞİL

PEMBE

- A) 237, 231, 234 235, 233, 239
 B) 235, 234, 239 237, 231, 233
 C) 231, 233, 234 235, 237, 239

3) Kardeşim benden 7 yaş küçüktür. Ablam benden 9 yaş büyüktür. Ben 16 yaşında olduğuma göre üçümüzün yaşları toplamı kaçtır?

- A) 18 B) 32 C) 50



Yukarıdaki sayı doğrusunda verilen şekillerden hangisi doğru kesri göstermektedir?

- A) $\frac{4}{1}$ $\frac{4}{3}$
 B) $\frac{1}{4}$ $\frac{3}{4}$
 C) $\frac{1}{4}$ $\frac{4}{3}$

5) Bir okulda toplam 117 kız öğrenci ve kızlardan 39 eksik erkek öğrenci vardır. Buna göre bu okulda toplam kaç öğrenci vardır?

- A) 195 B) 143 C) 156



Tuğba
43 kg

Selim
34 kg

Tahterevalliye binen Tuğba ve Selim'in dengede kalması için Selim'in kaç kilo alması gerekir?

- A) 77 kg B) 9 kg C) 11 kg

7) $34 \overline{) 4}$

Yukarıdaki bölme işleminin sağlaması hangisidir?

- A) $34 + 4 = 38$
 $38 - 4 = 34$
- B) $4 \times 8 = 32$
 $32 - 2 = 30$
- C) $4 \times 8 = 32$
 $32 + 2 = 34$

8) Elif teyze saat 08.15 ile 09.30 saatleri arasında spor yapmaktadır. Buna göre Elif teyze günlük ne kadar spor yapmaktadır?

- A) 01 .45 B) 01 .15 C) 01 .30

9) Okulumuzun bahçesine yarımşar metre aralıklarla 12 ağaç dikilmiştir.



Buna göre en baştaki ve en sondaki ağaç arasındaki uzunluk kaç metredir?

- A) 5,5 m B) 12 m C) 6 m

10)



27 tane



14 tane



18 tane

Yukarıda bir çiftlikteki hayvan sayısı verilmiştir. Buna göre çiftlikteki hayvanların ayak sayısı kaçtır?

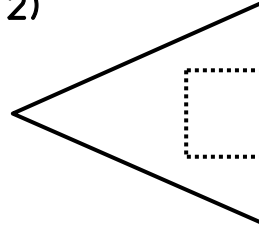
- A) 208 B) 59 C) 176

11) I. İller arası mesafe metre ile ölçülür.
II. Boyumuz metre ile ölçülür.
III. Kilometre kısaca km diye yazılır.

Yukarıdaki ifadelerden hangileri doğrudur?

- A) I, II ve III B) Yalnız II C) II ve III

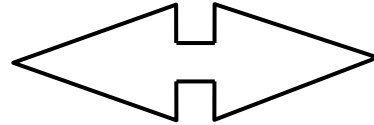
12)



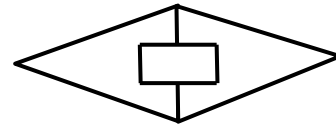
Özlem bir kağıdı katlayıp kesikli çizgiler üzerinden kesiyor.

Buna göre kesilen kağıdı açınca hangisi oluşur?

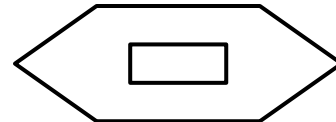
A)




B)



C)



1)



Dünya modelinde gösterilen katman hangisidir?

A) Yer kabuğu B) Çekirdek C) Manto

2)



Mehmet

Kulağımızla sesleri duyarız.

Dokunma duyumuzla yiyeceklerin tadını alırız.



Sevim



Tuna

Cisimleri gözlerimizle görürüz.

Çocuklardan hangisinin söylediği ifade yanlıştır?

A) Mehmet B) Sevim C) Tuna

3)

Kolonya

Tuz ruhu

Sabun

Çamaşır suyu

Yukarıdakilerden hangileri hem dokunma hem de koklama duyumuza zarar verebilir?

A) Çamaşır suyu – Kolonya
 B) Tuz ruhu – Çamaşır suyu
 C) Sabun – Kolonya

4) Kardeşimle kimin buzu eriycek oyunu oynuyorduk. İkimizde buzlarımızı getirip sobanın üzerine koyduk.



Kardeşimin buzu benimkinden önce eridi ve buharlaşıp yok oldu. Oyunda kaybeden ben oldum.

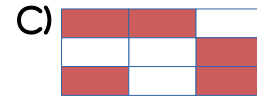
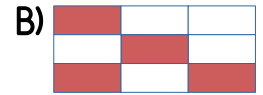
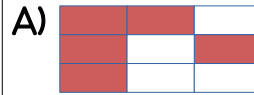
Yukarıdaki anlatılanlarda maddenin katı, sıvı ve gaz hallerine örnek verilmiştir. Verilen örnekler hangi seçenekte doğru verilmiştir?

	KATI	SIVI	GAZ
A)	Su	Buz	Su buharı
B)	Buz	Su	Su buharı
C)	Buz	Su buharı	Su

5)

Arı sesi	Kuş sesi	Gitar sesi
İnek sesi	Araba sesi	Gök gürültüsü
İnsan sesi	Tren sesi	Davul sesi

Tablodaki doğal ses kaynakları boyandığında görüntü nasıl olur?



6) Aşağıdakilerden hangisi canlıların ortak özelliklerinden birisi değildir?

A) Beslenme B) Yer değiştirme
 C) Büyüme

7)



• Batarya



• Pil

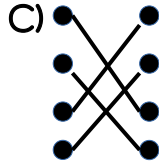
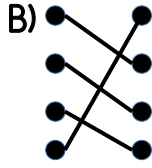
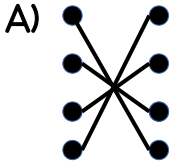


• Akü



• Şehir
elektriği

Yukarıdaki cihazlar ve kullandıkları elektrik kaynakları eşleştirilirse görünüm nasıl olur?



8) I. Elektrik cihazlarını çocuklar tamir etmemelidir.

II. Ellerimizi yıkayınca ıslak elle ışığı kapatabiliriz.

III. Kopan elektrik tellerinden uzak durmalıyız.

Yukarıdaki ifadelerden hangileri doğrudur?

A) I ve II

B) II ve III

C) I ve III

9)

Güneş
enerjisi

Doğalgaz
enerjisi

Rüzgar
enerjisi

Kömür
enerjisi

Yukarıdakilerden hangileri yenilenebilir enerji kaynağıdır?


A) Güneş enerjisi
Doğalgaz enerjisi

B) Rüzgar enerjisi
Kömür enerjisi

C) Güneş enerjisi
Doğalgaz enerjisi

10)

I. Vantilatör




Dönme hareketi

II. Salıncak



Sallanma hareketi

III. Araba



Hızlanma hareketi

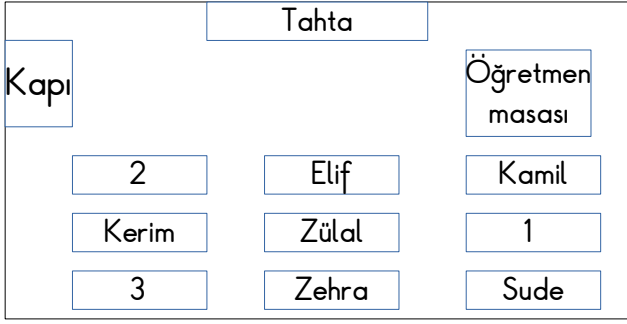
Yukarıdaki hareket türlerinden hangileri doğrudur?

A) I, II ve III

B) II ve III

C) I ve III

1)



- Deniz, kapıdan girince sağda Kerim'in önünde oturuyor.
- Büşra, öğretmen masasının karşısında Kamil'in arkasında oturuyor.
- Tufan, kapıdan girince sağda Kerim'in arkasında oturuyor.

Yukarıdaki sınıf krokisine ait bilgilere göre hangisi doğrudur?

- | | | |
|----------|-------|-------|
| 1 | 2 | 3 |
| A) Büşra | Tufan | Deniz |
| B) Büşra | Deniz | Tufan |
| C) Deniz | Büşra | Tufan |

2)



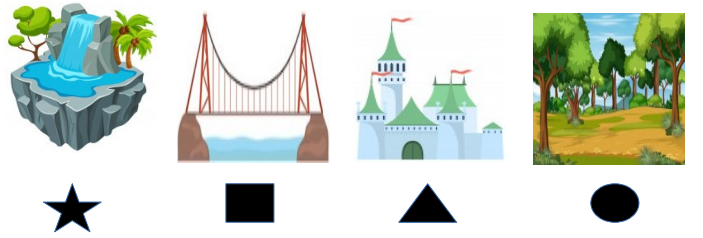
Yukarıdaki kaç numaralı görselde okul kaynakları tasarruflu kullanılmıştır?

- A) 1 B) 2 C) 3

3) Aşağıdaki trafik levhalarından hangisi anlamıyla yanlış eşleştirilmiştir?

- | | | |
|-------------|----------------------|--------------------|
| A) | E | C) |
| Okul Geçidi | Işıklı Trafik Cihazı | Bisiklet Girebilir |

4)



Yukarıdaki görsellerin doğal ve yapay çevre olarak sınıflandırılmış hali hangisidir?

- | | Doğal Çevre | Yapay Çevre |
|----|-------------|-------------|
| A) | ★ ■ | ● ▲ |
| B) | ★ ● | ■ ▲ |
| C) | ■ ● | ★ ▲ |

5) Kerem ve arkadaşları mantar toplamaya gittiler ve ormanda kayboldular. Hava hala kararmamıştı.

Buna göre Kerem ve arkadaşları yönlerini hangi yöntemle bulurlar?

- A) Güneş B) Kutup yıldızı C) Ay

6)

Bitkisel Gıdalar

- Tereyağı
- Fındık
- Karpuz

Hayvansal Gıdalar

- Süt
- Mısır
- Yumurta

Tablodaki yanlışlık hangileri yer değiştirse düzelir?

- A) Tereyağı ve mısır B) Yumurta ve fındık
C) Fındık ve süt

7)

Ağaç
dikmek

Çevreyi
kirlletmek

Su
israfı

Geri
dönüşüm

Yukarıdakilerin hangileri çevreye fayda sağlar? 1 0)

- A) Ağaç dikmek B) Geri dönüşüm
Su israfı Çevreyi kirlletmek
- C) Ağaç dikmek
Geri dönüşüm

- 8) I. Evde yüksek sesle müzik dinlemek
II. Merdivende karşılaşınca selam vermek
III. Komşu ziyareti yapmak

Yukarıdakilerden hangisi komşuluk ilişkilerini zayıflatır?

- A) I B) II C) III

9)



Türkiye Cumhuriyeti'ni kurdu.



İstiklal Marşı'nı yazdı.



2015 Nobel Kimya
Ödülü'nü aldı.

Yukarıdaki kişiler ve başarıları eşleştirilmiştir.
Bu kişilerle ilgili aşağıdakilerden hangisi
yanlıştır?

- A) Ülkemize hizmet etmişlerdir.
B) Ülkemiz için unutulmaz kişilerdir.
C) Ülkemizde çoğu insan tanımamaktadır.

	Planlı yaşamak hayatımızı düzene sokar.
	Plan yapmak zaman kaybına yol açar.
	Başarıya ulaşmak için planlı olmalıyız.

Yukarıdaki ifadeleri doğru olanlara "D" yanlış olanlara "Y" yazdığımızda doğru cevap hangisi olur?

- A) D – Y – D B) D – D – D
C) Y – D – Y