

1. Aşağıda verilenlerden hangisi **yanlıştır**?
 A) Vali ve kaymakam devleti temsil eder.
 B) Belediye başkanı , valiyi ve kaymakamı denetler.
 C) İlçeler, köyler ve mahalleler illere bağlıdır.

2. Şehir içinde temizlik , aydınlatma ve ulaşım gibi hizmetleri yapmak hangi yöneticinin görevidir?





- A) Vali B) Kaymakam C) Belediye Başkanı

3. Aşağıda verilenlerden hangisi **yanlıştır**?
 A) İl ve ilçelerde belediyeler bulunur.
 B) Su ve kanalizasyon işlerinden belediyeler sorumludur.
 C) Tüm yöneticiler seçimle göreve gelir.

4. Muhtar, vali tarafından atanır.
 Kaymakamı , vali atar.
 Belediye başkanı halk tarafından seçilir.
 Şehirlerin güvenliğinden vali sorumludur.

Yukarıda verilen ifadelerden doğru olanlara "D" , yanlış yazılanlara " Y " yazılırsa hangi seçenek doğru olur?

- A) Y Y D D
 B) Y D Y Y
 C) D Y D D

5.    
 yılan leylek kurbağa balık

Yukarıda verilen canlıların **ortak özelliği** aşağıdakilerden hangisidir?

- A) Suda yaşamaları
 B) Yumurta ile çoğalmaları.
 C) Yavrularına bakmaları









Yukarıdaki çevrelerden kaç tanesi yapay çevreye örnektir?

- A) 4 B) 3 C) 2

7. → Kendi besinimi kendim üretirim.
 → Besinleri çevremden hazır olarak alırım.

Yukarıda numaralandırılmış yerlere aşağıdaki görsellerden hangileri gelebilir?

	1	2
A)		
B)		
C)		

8. Yaşadığımız çevreyi tanımak hayatımızı kolaylaştırır

Aşağıdakilerden hangisi yukarıda verilen ifadeyi destekler?

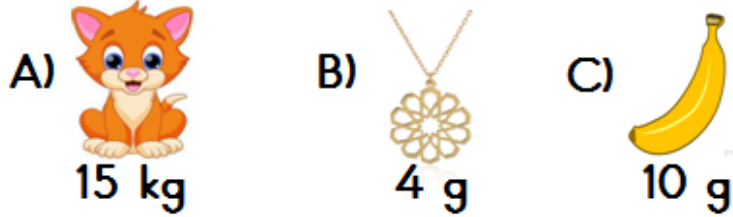
- A) Geri dönüşüm ülke ekonomisine katkı sağlar.
 B) Mahallemizde bulunan dükkanların yerini bilmek ihtiyaçlarımızı hızlıca karşılamamızı sağlar.
 C) Çevremizi korumalı ve temiz tutmalıyız.


9. Aşağıda verilenlerden hangisi yanlıştır?

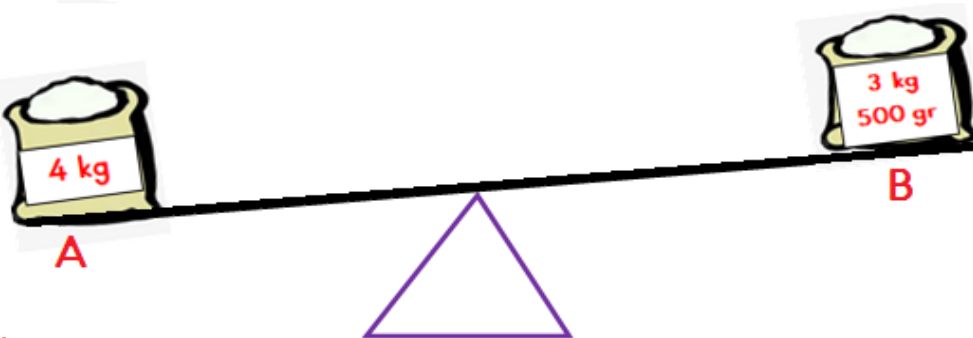
- A) Doğal çevre yapay çevreye dönüşür fakat yapay çevre doğal çevreye dönüşmez.
 B) Yapay çevre , doğal çevreye göre daha uzun zamanda oluşur.
 C) Yapay çevre , doğal çevrenin bir değişimidir.

1. 6 tane 200 gram
2. 15 tane 40 gram
3. 5 tane 250 gram
4. 9 tane 100 gram
10. Yukarıda verilen ağırlıklardan hangileri 1 kg 'dan azdır?
A) 2 ve 4 B) 2 ve 3 C) 1 ve 4

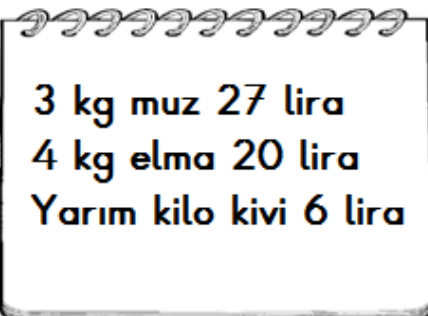
11. Aşağıdakilerden hangisinin kütlesi doğru tahmin edilmiştir?




12.  Yarım kilosu 12 lira olan balıktan 2 kilogram alıp satıcıya 100 lira veririm kaç lira para üstü alırım?
A) 52 B) 62 C) 76



13. Yukarıdaki terazinin dengede durabilmesi için A kefesindeki şekerden B kefesindeki şekere kaç gram konulmalıdır?
A) 500 g B) 200 g C) 250 g

14.  Yandaki listede pazardan alınan ürünlere harcanan para miktarları verilmiştir. Ürünlerin kg fiyatları hangi seçenekte verilmiştir?

	Muz	Elma	Kivi
A)	9 lira	5 lira	10 lira
B)	8 lira	4 lira	12 lira
C)	9 lira	5 lira	12 lira

15.  Hem eş hem zıt anlamı olan balonlar patlatılırsa geriye kaç tane balon kalır?
A) 2 B) 3 C) 4

16. Kış gelince polar battaniye aldık. Annem çok güzel şarkı söyler. Güler, sınıfın en başarılı öğrencisidir. Leylalar dün gece eve geç geldi. Yukarıda verilen altı çizili kelimelerden kaç tanesi coğul isimdir?
A) 1 B) 2 C) 3

RECEP ALPTEKİN

17. Aşağıdaki cümlelerden hangisi **neden-sonuç** cümlesidir?
A) Karıncalar bildiğimiz tüm yırtıcı hayvanlardan daha fazla et tüketir.
B) Karıncalar ağır besinleri tek başına taşıyamadıklarından yardımlaşırlar.
C) Yuvadaki her karıncanın bir görevi vardır.

18. Nasıl? Ne zaman? Nereye?

- Aşağıda verilen cümlelerin hangisinde yukarıdaki soruların tamamının cevabı vardır?
A) Dün akşam eve gittim.
B) Recep , ağaca çıkarak kirazları topladı.
C) Akşam okuldan eve koşarak gittim.

19. Aşağıdaki sözcüklerden hangisi hecelerine **yanlış** ayrılmıştır?

A) Ka-ra-ma-noğ-lu

B) ha-nı-me-li

C) de-niz-a-na-sı

Yöneticiler	Görev Yeri	Göreve Gelme Şekli
Muhtar		
Kaymakam		
	il / ilçe	Seçim ile

1. Yukarıda sembollerle gösterilen yerlere gelmesi gerekenler hangi seçenekte verilmiştir?

- A) köy seçim ile il seçim ile belediye başkanı
- B) mahalle seçim ile ilçe atama ile belediye başkanı
- C) mahalle atama ile ilçe atama ile vali

2.



Benim babam halk tarafından seçilip ilde yaşayan halka hizmet edip ili yönetmektedir.

Eğitim ve sağlık hizmetleri.	Park ve bahçelerin bakımı.
Pazar yeri ve iş yeri denetimi.	Ulaşım hizmetleri.

Tabloda verilen hizmetlerden Hasan'ın babasının görevi olanları boyarsak hangi seçenek doğru olur?

- A)
- B)
- C)

3.

- Kaymakam valiye bağlı olarak çalışır.
- İlçe içindeki halkın can ve mal güvenliğinden belediye başkanı sorumludur.
- Cumhurbaşkanı yerel yöneticilerdendir.
- Devletin ildeki ulaşım, sağlık, eğitim hizmetlerinin yönetilmesinden vali sorumludur

Yukarıda verilen ifadelerden doğru olanlar yeşile, yanlış olanlar kırmızıya boyanırsa doğru seçenek aşağıdakilerden hangisi olur?

- A)
- B)
- C)

. . canlılarına ait özelliklerinin yazıldığı tablo aşağıda verilmiştir.

	Suda yaşar.	Yumurta ile çoğalır.	Yavru bakımı vardır.
	EVET	EVET	HAYIR
	HAYIR	HAYIR	EVET
	HAYIR	HAYIR	EVET

4.

Tabloya göre sembollerle gösterilen canlılar hangi seçenekte verilen canlılar olabilir?

A)	Kurbağa	İnek	Yunus
B)	Balık	Kuş	Koyun
C)	Hamsi	Tavşan	Yarasa

5.

meyve kabuğu	salça kutusu	defter
soda şişesi	yemek atıkları	akü

Tabloda geri dönüşümü yapılabilen maddeler boyanırsa tablonun görünümü nasıl olur?

- A)
- B)
- C)

6.

- ulaşım barınma
- tarım hastane yapma

Yukarıdakilerden kaç tanesi insanların yaşadıkları doğal çevreyi değiştirme nedeni olabilir?

- A) 2 B) 3 C) 4

7.



Yukarıda verilen şemadaki bilgilerin doğru yanlış durumuna göre oklar takip edildiğinde kaçınıcı çıkışa ulaşılır?

- A) 2.ÇIKIŞ B) 3.ÇIKIŞ C) 4.ÇIKIŞ

8.



LEYLA

Paramın üçte biri ,Yusuf'un parası kadardır.



ALPER

Paramın 10 lirasını Leyla'ya verirsem paralarımız eşitleniyor.



YUSUF

Cüzdanımda 30 lira vardır.

Üç arkadaş cüzdanındaki paralarla ilgili yukarıdaki bilgileri vermişlerdir.

Buna göre bu üç arkadaşın toplam kaç lirası vardır?

- A) 220 B) 230 C) 235



Elisa , Defne , Ada ve Nil'in doğru saate göre durumları aşağıda verilmiştir.

Elisa'nın saati 15 dakika ileridir.

Defne'nin saati 10 dakika geridir.

Ada'nın saati 20 dakika ileridir.

Nil'in saati 15 dakika geridir.

9. ve 10. soruları yukarıda verilen bilgilere göre cevaplayınız.

9.

Nil'in saati 16:45'i gösterdiğinde , Elisa'nın saati kaç gösterir?

- A) 17:00 B) 17.15 C) 17:30

10.

Ada'nın saatine göre 18:30 'da başlayan bir gösteri Defne'nin saatine göre 19.50'de bitmiştir.

Bu gösteri kaç dakika sürmüştür?

- A) 110 B) 100 C) 80



Bir manav çarşamba gününe özel tüm ürünleri yarı fiyatına satmaktadır.

11.

Çarşamba günü yarım kilo biberi 2 liraya ve 1 kg elmayı 3 liraya alan biri ;perşembe günü 1 kg biber ve 2 kg elma almış olsaydı kaç lira öderdi?

- A) 10 B) 14 C) 20

12.

Hatice, Hasan, Halil , Hamza ve Halime aynı okulda çalışan 5 arkadaştır. Okula her ay birinin aracılığıyla beraber gitmeyi düşünmektedirler..Okula geliş gidiş için şu kararları almışlardır.

→ Okula birlikte geliş gidiş ekim ayında başlayacaktır.

→ Her bir kişi diğer arkadaşlarını bir ay boyunca kendi aracılığıyla okula getirip götürecektir.

→ Araçla götürme sırası isimlerin alfabetik sırasına göre olacaktır.

Buna göre aşağıdakilerden hangisi **yanlıştır**?

A) Ocak ayında Hatice arkadaşlarını okula getirip götürecektir.

B) Aralık ayında Hamza arkadaşlarını okula getirip götürecektir.

C) Kasım ayında Halime arkadaşlarını okula getirip götürecektir.

13.



Yandaki verilen görselin hecelerinden biri aşağıdakilerden hangisinin hecelerinin birinde **bulunmaz**?

- A) Maske B) kasaba C) Salatalık

- () Padişahlık gücünü halktan alan bir yönetim şeklidir.
 () Cumhuriyetten önce kadınların seçme ve seçilme hakkı yoktu.
 () Cumhuriyet yönetiminde egemenlik milletindir.
 () Sadece yöneticilerin tek söz sahibi olması cumhuriyet yönetimine uygun değildir.
 () Cumhuriyet ile birlikte kadınlara yeni haklar verildi.

1. Yukarıda verilen ifadelerden doğru olanlara " D ", yanlış olanlara " Y " yazılırsa hangi seçenek doğru olur?

- | | | |
|----------|----------|----------|
| A) (D) | B) (Y) | C) (Y) |
| (Y) | (D) | (Y) |
| (D) | (D) | (D) |
| (Y) | (D) | (D) |
| (D) | (D) | (D) |



2. Yukarıda verilen görsellerde cumhuriyetin getirdiği yenilikler verilmiştir.

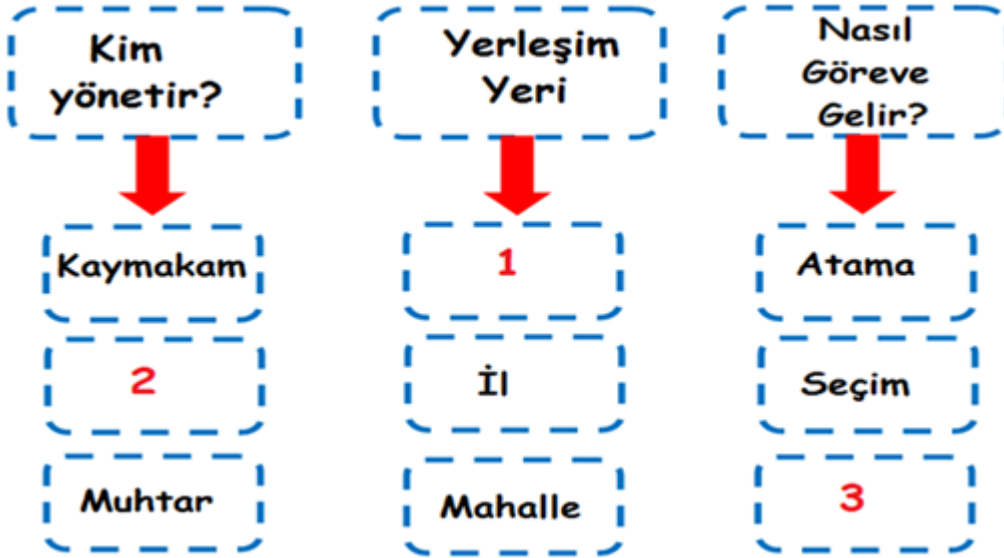
Aşağıda verilen seçeneklerden hangisine yer verilmemiştir?

- A) Soyadı kanunu B) Seyahat hakkı C) Kadın erkek eşitliği

Cumhuriyetin ilanıyla birlikte birçok alanda yenilik yapılmıştır. Medeni Kanun 'un çıkarılması, kadınlara seçme ve seçilme hakkının verilmesi, uzunluk ölçü birimlerinin değiştirilmesi gibi.

3. Buna göre , cumhuriyetin getirdiği yeniliklerle ilgili aşağıdakilerden hangisi söylenemez?

- A) Yenilikler hayatımızı kolaylaştırmak için yapılmıştır.
B) Yenilikler ayrımcılığı ortadan kaldırmaya yöneliktir.
C) Yenilikler demokrasiyi engellemeye yöneliktir.



4. Yukarıda verilen şemada numaralandırılmış yerlere yazılması gerekenler hangi seçenekte doğru olarak verilmiştir?

- | | 1 | 2 | 3 |
|----|------|------------------|-------|
| A) | ilçe | belediye başkanı | seçim |
| B) | ilçe | vali | atama |
| C) | il | belediye başkanı | seçim |

Şahan iki eş küpü aşağıdaki gibi ok yönünde birleştirip yapıştırmıştır.



5. Yeni oluşan şekil ile ilgili aşağıdaki ifadelerden hangisi yanlıştır?

- A) Yeni oluşan şekli kullanarak dikdörtgen çizebiliriz.
- B) Yeni oluşan şeklin ismi dikdörtgen prizmadır.
- C) Yeni oluşan şekil ile küpün ayrıt sayısı eşittir.

Hasan, aşağıda verilen kartların ön yüzlerine geometrik cisimlerin isimlerini ,arka yüzlerine geometrik şekillerin yüz sayısını yazmıştır.



6. Hasan, kartların arka yüzlerinde yazan rakamların her birini bir defa kullanarak 2 basamaklı 2 tane sayı oluşturuyor.

Hasan'ın oluşturduğu sayıların toplamı en az kaç olabilir?

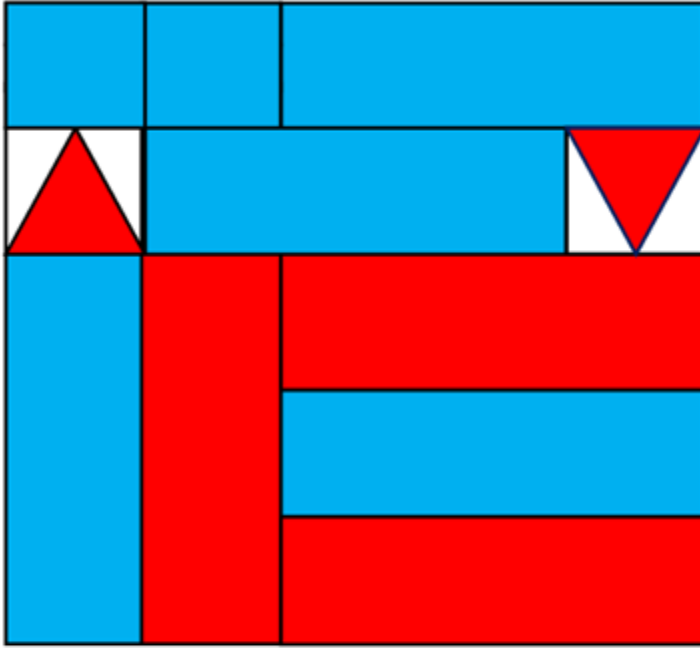
- A) 51
- B) 61
- C) 79

7. Elisa kibrit çöplerini kullanarak kare ve üçgen oluşturmak istiyor.

Elisa'nın en az kaç tane kibrit çöpüne ihtiyacı vardır?

- A) 7
- B) 6
- C) 5

8.

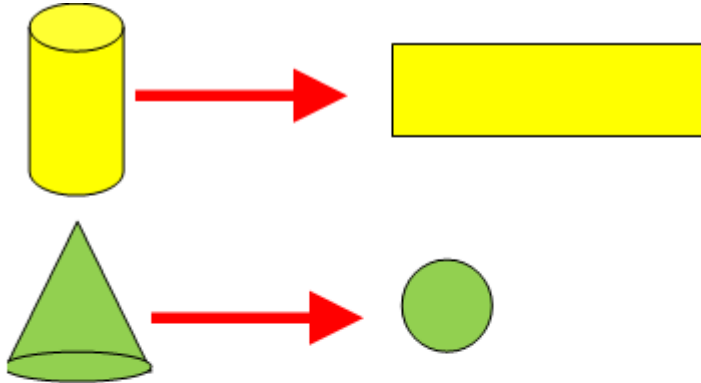


Yusuf , tangramda boyalı olan şekilleri birleştirerek geometrik şekiller oluşturmak istemektedir.

Yusuf'un tangram ile ilgili verdiği bilgilerden hangisi yanlıştır?

- A) Kırmızı parçaları kullanarak üçgen prizma oluşturabilir.
- B) Mavi parçaları kullanarak dikdörtgen prizma oluşturabilir.
- C) Tangramda 7 tane dikdörtgen parçası vardır.

9.



Yukarıda verilen geometrik cisimlerin yüzleri eksik verilmiştir. Geometrik şekillerin yüzlerini tamamlamak için sırasıyla hangi şekiller kullanılmalıdır?

- A)  
- B)   
- C)   

10.



Yukarıda verilen şemadaki ifadeler doğruluk(D) ,yanlışlık(Y) durumuna göre oklar takip edilirse kaçınıcı çıkışı ulaşılır?

- A) 1. ÇIKIŞ B) 2. ÇIKIŞ C) 3. ÇIKIŞ

11.

Pamukkale	Barajlar	göller	Anıtkabir
Köprüler	Tarım alanları	Mağaralar	Peri Bacaları

Yukarıda verilen tabloda doğal çevre olanlar sarıya , yapay çevre olanlar maviye boyanacaktır.

Hangi seçenekte tablonun doğru boyanmış hali verilmiştir?

A)



B)



C)

12. Aşağıdakilerden hangisi yanlıştır?

- A) Tüm bitkilerin yaşam döngülerindeki uzunluk aynıdır.
- B) Canlı ve cansız varlıklar birbirlerine muhtaçtır.
- C) Doğal çevrenin zarar görmesi hayvan nesillerinin tükenmesine neden olmuştur.

13. Aşağıdakilerden hangisi doğrudur?

- A) Yapay çevre doğal çevreden daha çok gereklidir.
- B) Yenilenebilir enerji kaynaklarının kullanımının arttırılması çevreyi daha çok kirletir.
- C) Ulaşımında toplu taşıma araçlarının kullanılması çevre kirliliğini azaltır.



14. Numara verilen sözcüklerle anlamlı ve kurallı cümle oluşturulursa sıralama nasıl olur?

- A) 2 - 1 - 6 - 4 - 5 - 3
 B) 2 - 4 - 6 - 3 - 1 - 5
 C) 3 - 4 - 6 - 1 - 5 - 2



15. Öğretmenin sorduğu sorunun cevabı hangi seçenekte verilmiştir?

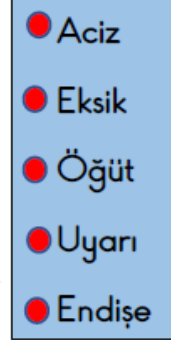
- A) peri
 B) peynir
 C) pırlanta

16. Aşağıda verilen sözcüklerin hecelere ayrılışı hangi seçenekte doğru verilmiştir?

- A) as - lan - ağ - zı
 B) ha - nım - e - li
 C) ak - şa - müs - tü

17. Aşağıdaki atasözlerinden hangisi çalışmanın önemiyle alakalı değildir?

- A) İşten artmaz, dıştan artar.
 B) Akan su yosun tutmaz.
 C) İşleyen demir pas tutmaz.



18.

Yukarıdaki sözcükleri eş anlamlılarıyla eşleştirdiğimizde hangi iki sözcük boşta kalır?

- A) Uyarı - İkaz
 B) Aciz - Hisse
 C) Endişe - Kaygı



19. Torunlar sitesi sakinlerinden Ahmet Bey, aylık apartman aidatını toplamaya gelen apartman yöneticisini her seferinde güzel sözlerle oyalayarak 4 aydır apartman aidatını ödememektedir.

Yukarıda verilen metinde kullanılabilecek deyim aşağıdakilerden hangisidir?

- A) Ağzına bir parmak bal çalmak
 B) Ağzıyla kuş tutmak
 C) Ağız aramak

MINİ DENEME-1

1	2	3	4	5	6	7	8	9	10	11	12	13	14	15	16	17	18	19	20
B	C	C	A	B	A	A	B	B	A	B	A	C	C	B	A	B	C	C	

MINİ DENEME-2

1	2	3	4	5	6	7	8	9	10	11	12	13
B	C	A	C	A	C	C	B	B	A	C	A	A

MINİ DENEME-3

1	2	3	4	5	6	7	8	9	10	11	12	13	14	15	16	17	18	19	20
B	C	C	A	B	B	C	B	C	A	A	A	C	B	A	C	A	B	A	