

EVDE DENE ÖZEL SERİ

- TÜRKÇE 15 SORU
- MATEMATİK 15 SORU
- FEN BİLİMLERİ 10 SORU
- HAYAT BİLGİSİ 10 SORU
- İNGİLİZCE 5 SORU



3.SINIF DENEME SINAVI

YAZAR
ALİ CAN FİDAN

"Uzaktan Eğitim Dönemi" boyunca hazırladığımız deneme sınavı serisi en özgün, en kaliteli, en güncel soruları ile devam ediyor.



groups/ilkokulodev



ilkokulodev



ilkokulodev



A-Z



Türkçe

Bu test
15 sorudur

1 Duvarda yazan kelimelerden hangisinin hece sayısı diğerlerinden farklıdır?

- A) kaldırım
- B) kazanç
- C) yuvarlak



2 Cümledeki noktalı yere aşağıdakilerden hangisi yazılamaz?

- A) veteriner
- B) baytar
- C) cerrah



Sağlıklı besinler ve yiyecekler sayesinde hastalıklardan korunuruz. Özellikle sebze ve meyve tüketmek, vücudumuzun direncini artırır.

3 Bu cümlelerde verilen bilgilere göre aşağıdakilerden hangisi sağlıklı besinlerden biri değildir?

A)



B)



C)

**KARINCA**

Hiç durmadan çalışır,
Güçlüklerle uğraşır,
Evine erzak taşır,
Çalışkandır karınca.


Evi yerin altında,
Ambarı alt katında,
Her iş onun sırtında,
Ne aslandır karınca.

Hasan Ali Yücel

(4. ve 5. soruları şiire göre cevaplayınız.)

4 Bu şiirde karınca, hangi hayvana benzetilmektedir?

A)



B)



C)



5 Karınca ile ilgili aşağıda verilen bilgilerden hangisi bu şiirde yoktur?

- A) Hep tembel tembel yatar.
- B) Evine sürekli yemek taşır.
- C) Evinin altında ambar vardır.

1

Sonraki sayfaya geçiniz.



ilkokulodev

ilkokulodev.com



6 Karışık verilen kelimeler ile “anamlı ve kurallı bir cümle” oluşturmak için sıralama aşağıdakilerden hangisi gibi olmalıdır?

- A) 1-3-4-2-5
- B) 2-4-1-5-3
- C) 2-1-5-4-3



7 Reklam panosundaki cümlede yazım yanlışları yapılmıştır. Aşağıdakilerden hangisi bu cümlenin doğru yazılmış halidir?

- A) Bu Ürün'ü 21 Mayıs 2020de 55 liraya satacaz.
- B) bu ürünü 21 Mayıs 2020 de elli beş liraya satacağız?
- C) Bu ürünü 21 Mayıs 2020'de elli beş liraya satacağız.



Ben öyle bir noktalama işaretiyim ki asla cümle sonuna konmam.



8 Yukarıda kendinden gizli şekilde bahseden noktalama işareti aşağıdakilerden hangisi olabilir?

- A) virgül
- B) soru işareti
- C) nokta

..... yarın İstanbul'a gideceğiz.

9 Bu cümledeki noktalı yere aşağıda verilen adılardan (zamirlerden) hangisi yazılmalıdır?

- A) Siz
- B) Onlar
- C) Biz

Merhaba arkadaşlar, ben Ali. Eve kapandığımız bu dönemde birçok yeni şey öğrendim. Babamla ekmek yaptık. Annemle 23 Nisan Ulusal Egemenlik ve Çocuk Bayramı için süsler yapıp odamı süsledik. Eminim siz de bu günleri dolu dolu geçiriyorsunuz.



10 Aşağıda verilen sorulardan hangisinin cevabı bu cümlede yoktur?

- A) Ali ve annesi odayı ne için süslemiş?
- B) Ali ve ailesi hangi şehirde oturmaktadır?
- C) Ali kiminle ekmek yapmış?

“ bak ”

11 Yukarıda bir hece verilmiştir. Bu hece, aşağıdaki kelimelerden hangisinin hecelerinden biri değildir?

- A) bakkal B) bakıcı C) tabak



12 “Yüz” kelimesi aşağıdaki cümlelerden hangisinde yukarıdaki anlamıyla kullanılmıştır?

- A) Yüz liraya ne alabiliriz?
B) Yüzüne krem mi sürdün?
C) Yarın denizde yüzelim mi?

13 Verilen cümlelerden hangisinde “neden-sonuç anlamı” yoktur?

- A) Çok kar yağınca okul tatil oldu.
B) Çocuk, düştüğü için ağlıyor.
C) Bugün sırada çok bekledik.



KELİME

ZİT ANLAMLI

yoksul	●
gece	■
☆	eğri

14 Tabloda şekille gösterilen yerlere sırasıyla aşağıdakilerden hangileri yazılmalıdır?

- ■ ☆
A) fakir akşam yamuk
B) genç gündüz yeni
C) zengin gündüz düz

Kuğular, ördekler, tavuklar ve kazlar eskiden aynı yerde yaşarmış. Bir anlaşmazlık yüzünden hepsi sırayla orayı terk etmiş. Kimisi ormanlara gitmiş, kimisi de insanların yanına.

15 Bu metinde kaç tane “çoğul eki almış kelime” vardır?

- A) altı B) beş C) dört



7 birlik

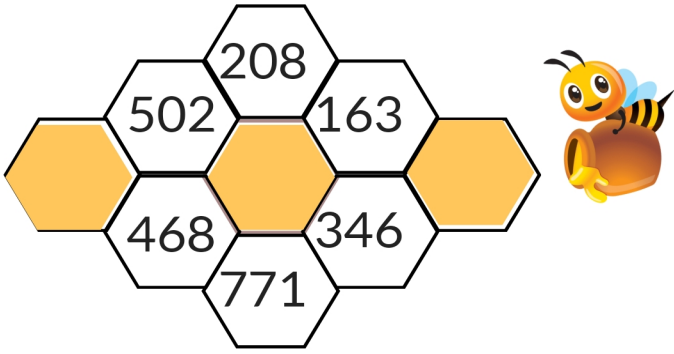
4 onluk

8 yüzlük



1 Yukarıda basamak değerleri verilmiş olan sayının "okunuşu" aşağıdakilerden hangisidir?

- A) yedi yüz seksen dört
- B) sekiz yüz yetmiş dört
- C) sekiz yüz kırk yedi



2 Arı Vızı'nın peteğindeki "en büyük çift sayı" ile "en küçük tek sayının" farkı kaçtır?

- A) 339
- B) 563
- C) 308

3 "Romen rakamları" ile yapılmış aşağıdaki işlemlerden hangisinin sonucu yanlıştır?

- A) $XI + XIV = 25$
- B) $XX - IV = 10$
- C) $VIII + X = 18$



4 Kamyonun kasası boş iken ağırlığı 441 kilogramdır. Kasaya ineği koyduğumuzda ise toplam ağırlık 740 kilogram ediyor. Bu bilgilere göre "ineğin ağırlığı" aşağıdakilerden hangisidir?

- A) 300 kg
- B) 299 kg
- C) 289 kg



DİKKAT: Bu soruda verilen adımları takip edip sonuca ulaşacağız.



İlk adımda, "alfabedeki sessiz harf sayısı" ile "ayak parmaklarımızın sayısını" çarpalım.



Yukarıda bulduğumuz sayıyı 8'e bölelim.



Yaptığımız bölme işlemindeki "bölüm" ile "kalanı" toplayalım. Sonucumuz etmektedir.

5 Yukarıdaki üçüncü adımda bulunan "....." olan yere hangi seçenekteki sayı yazılmalıdır?

- A) 28
- B) 21
- C) 29

Annesinin yaşı, Derin'in yaşının 6 katından 5 fazladır. Derin 5 yaşında olduğuna göre, annesi ile Derin'in yaşlarının toplamı kaçtır?



6 Tahtadaki sorunun doğru cevabı hangi seçenekte verilmiştir?

- A) 30 B) 35 C) 40



Eba TV'deki dersini izledikten sonra TRT Belgesel'i açan ve güzel bir belgesele rastlayan Göksel, belgeseli izlemeye başlamıştır.

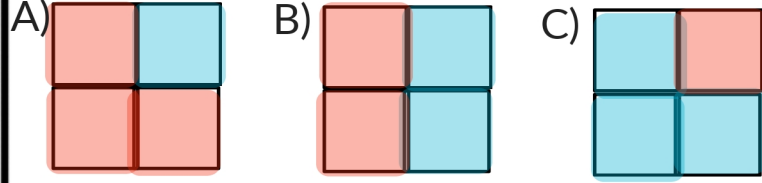
Kendine bir oyun bulan Göksel, gördüğü her hayvanı kağıda çetele tablosu şeklinde not almıştır:

Hayvan Adı	Hayvanın Sayısı
Deve kuşu	### II
Zebra	
Kaplumbağa	###

7 Bu bilgilere göre "Göksel'in gördüğü tüm hayvanların ayak sayılarının toplamı" kaçtır?

- A) 54
B) 62
C) 70

8 Öğretmen öğrencilerden, defterlerine bir şekil çizip bunu 4 eşit parçaya bölmelerini istemiştir. Sonra da şeklin "dörtte birini mavi, dörtte üçünü de kırmızı" boyamalarını söylemiştir. Öğretmenin söylediklerine göre oluşacak görüntü aşağıdakilerden hangisidir?



1 saatin çeyreği 15 dakika eder.



"11.45" okunurken "on ikiyi kırk beş geçiyor." diye okunur.



135 dakika, "2 saat ve 15 dakika" eder.

9 Saatler ile ilgili verilen yukarıdaki bilgilerden hangisi yanlıştır?



4 ₺



8 ₺



10 ₺

10 Yukarıda, üç farklı meyvenin kilogram fiyatları verilmiştir. "3 kg üzüm, yarım kg limon ve 4 kg karpuz" alan biri, toplamda kaç TL ödeyecektir?

- A) 39 TL
B) 24 TL
C) 45 TL




Dünya, geometrik cisimlerden örnek gösterilebilir.



Çadır, örnek verilebilir.



Bu koli, denen geometrik cisme benzemektedir.



11 Yukarıdaki cümlelerde bulunan boşluklara "sırasıyla" aşağıdakilerden hangileri gelmelidir?

- A) küreye, üçgen prizmaya, küp
- B) koniye, üçgen prizmaya, küre
- C) silindire, kare prizmaya, koni

12 Aşağıdaki harflerden hangisinde "yatay doğru parçası" yoktur?

A) F

B) Y

C) A

13 Fidan Çiftliği, dikdörtgen şeklinde bir arsada bulunuyor. Uzun kenarı ve kısa kenarı verilen bu arsanın "çevresinin toplam uzunluğu" kaç metredir?

- A) 298 metre
- B) 578 metre
- C) 468 metre

14 Murat, 1 saatte 33 sayfa kitap okumaktadır. Öyleyse saat 11.00 ile 14.00 arasında toplam kaç sayfa okumuş olur?

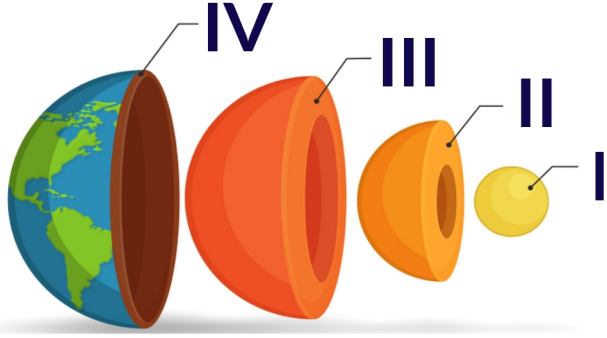
- A) 99
- B) 112
- C) 132



Emre ile kardeşinin boy uzunluklarının toplamı 3 metredir. Kardeşinin boyu ise 139 santimetredir.

15 Bu bilgilere göre, Emre'nin boyu hangi şıkta verilmiştir?

- A) 161 cm
- B) 165 cm
- C) 171 cm

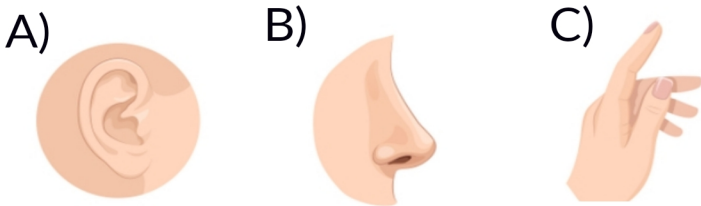


1 Dünyamızın katmanları ile ilgili verilen bilgilerden hangisi **yanlıştır**?

- A) III numaralı katman yer kabuğudur.
- B) II numaralı katman dış çekirdektir.
- C) I numaralı katman iç çekirdektir.



2 Bu görsellerdeki kız, bize hangi duyu organını anlatmaktadır?



Mehmet

Ahmet



3 Yukarıdaki görsele göre verilen bilgilerden hangisi doğrudur?

- A) Ahmet çekme, Mehmet itme kuvveti uygular.
- B) Ahmet itme, Mehmet çekme kuvveti uygular.
- C) İkisinin de uyguladığı kuvvet itme kuvvetidir.

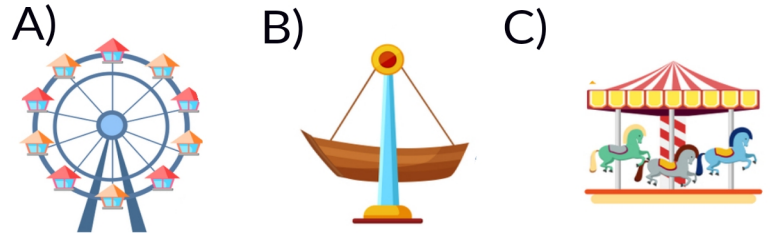


Bu canlıların yaşadığı katman katmanıdır.

4 Bu cümledeki boş yere aşağıdakilerden hangisi yazılmalıdır?

- A) hava
- B) atmosfer
- C) su

5 Aşağıdaki aletlerden hangisinin yaptığı hareket diğerlerinden **farklıdır**?





6 Aşağıdaki cümlelerden hangisi verilen görseller için **yanlış** bir cümledir?

- A) Tehlikeli maddeleri bebeklerin ulaşamayacağı yere kaldıralım.
B) Elektrik prizlerine koruyucu kapak takalım.
C) Bıçaklar çocukların oynayabileceği eşyalardır.



7 Tabloda verilen ışık kaynaklarından kaç tanesi "doğal ışık kaynağıdır"?

- A) 3
B) 4
C) 2

8 Ses kaynakları ile ilgili verilen bilgilerden hangisi **yanlıştır**?

- A) Ses dalgalar halinde ve her yöne yayılır.
B) Şimşek, yapay ses kaynağıdır.
C) Yapay ses kaynakları insanlar tarafından üretilir.



1. doğal afet




2. doğal afet

9 Yukarıda görülen doğal afetler ile ilgili verilen bilgilerden hangisi "2. doğal afete" aittir?

- A) Yoğun yağmur yağışı sonucu, su baskını şeklinde oluşur.
B) Bu afetin adı seldir.
C) Yerkabuğundaki kırılmalar sonucu şiddetli sarsıntılar şeklinde oluşur.

10 Aşağıdaki elektrikli aletlerden hangisini çalıştırmak için "pil" kullanılır?



- A) Otomobil
B) El feneri
C) Televizyon



Faruk, Erhan'ın topunu zorla almış ve uzağa attıktan sonra oradan kaçmıştır. Erhan olayı sınıftaki arkadaşlarına anlatmış. Tüm sınıf Faruk'un biri olduğunu söylemiş.

1 Yukarıdaki boşluğa aşağıdakilerden hangisi yazılamaz?

- A) oyunbozan
- B) yardımsever
- C) yaramaz

Yandaki tabloda Fidan ailesinin Şubat ayı giderleri görülmektedir.

*Yiyecek:.....240₺
*Elektrik:.....365₺
*Doğalgaz:.....400₺
*Eğlence:.....125₺

2 Fidan ailesinin tasarruf edebilmesi için hangi iki harcamaya daha fazla dikkat etmesi gerekir?

- A) elektrik ve doğalgaz
- B) eğlence ve yiyecek
- C) yiyecek ve elektrik

☆ Evdeki tüm işleri anne yapmalıdır.

□ Aile bireyleri birbirine yardımcı olmalıdır.

♡ Fatura yatırmak sadece babanın görevidir.

3 Evdeki sorumluluklar ile ilgili verilen yukarıdaki bilgilerden hangileri yanlıştır?

A) ♡ ve □

B) □ ve ☆

C) ☆ ve ♡



Volkan, pazarda annesi alışveriş yaparken bir anlığına annesinin elini bırakır ve kalabalıkta kaybolur. Ne yapacağını bilemeyen Volkan, çok korkmuştur.

4 Volkan aşağıdakilerden hangisini yaparsa doğru bir davranış yapmış olur?

- A) Pazarda gördüğü polisten yardım isterse
- B) Bir evin bahçesine gidip saklanırsa
- C) Onu annesine götüreceğini söyleyen adamla birlikte giderse



Haftalık plan yapmak ve o planı düzenli biçimde uygulamak insanı biri yapar.

5 Programlı çalışma ile ilgili, aşağıdakilerden hangisini bu boşluğa yazamayız?

- A) başarılı
- B) düzenli
- C) kararsız



6 Yukarıdaki üç boyutlu krokiye bakarak aşağıdakilerden hangisini söyleyemeyiz?

- A) Markete en uzak bina AVM'dir.
- B) Hastane, okul ile AVM'nin arasındadır.
- C) AVM, okul ile marketin arasındadır.



7 Bu trafik kazasında, olay yerine polis ve ambulans ekibi çağırılmıştır. Bu bilgiye göre hangi şıktaki acil durum numarası aranmış olamaz?

- A) 110
- B) 112
- C) 155

Öğretmen, sınıfa elinde bu afiş ile geldi. Afişin üstünde, millî bayramın adı yazan yeri kapamıştı.



8 Afişe göre, bu millî bayram aşağıdakilerden hangisidir?

- A) Ulusal Egemenlik ve Çocuk Bayramı
- B) Atatürk'ü Anma, Gençlik ve Spor Bayramı
- C) Cumhuriyet Bayramı



Peribacaları, yurdumuzun en turistik bölgelerinden olan bulunmaktadır.

9 Verilen cümledeki boşluğa aşağıdakilerden hangisi yazılmalıdır?

- A)Trakya'da B)Antalya'da C)Kapadokya'da

10 Aşağıdakilerden hangisi "okul geçidi" levhasıdır?





It is a

1 Bu cümledeki boş yere aşağıdakilerden hangisi yazılmalıdır?

- A) giraffe
- B) gorilla
- C) elephant



2 Aşağıdakilerden hangisi, bu nesnelere birinin adı değildir?

- A) pencil
- B) bed
- C) bike



How is the weather?



It is



3 Bu görsele göre verilmesi gereken cevap aşağıdakilerden hangisidir?

- A) snowy
- B) rainy
- C) sunny

4 Resimdeki adamın söylediği sayı aşağıdakilerden hangisidir?

- A) eighteen
- B) seventeen
- C) nineteen



Where is the cat?



5 Yukarıdaki sorunun cevabı hangi seçenekte verilmiştir?

- A) It is on the chair.
- B) It is in the bed.
- C) It is under the table.


*Afrika'nın birbirinden ilginç hayvanları sizlerle!
Boyarken öğren, öğrendikçe boya!*




MEERKAT / SURICATE



AFRICAN BUFFALO




DROMEDARY



RHINOCEROS




GORILLA



IMPALA



ZEBRA




HIPPOPOTAMUS



WARTHOG



GIRAFFE



AFRICAN ELEPHANT



LEMUR



OSTRICH



LION

*Adları İngilizce verilmiş hayvanları ister renk renk istersen de kendi renklerine boya.
İyi eğlenceler!*