

2.SINIF
MATEMATİK - BASAMAK DEĞERİNİ BULALIM

BASAMAK DEĞERİ

27

Birler basamağı → Basamak adı
7 birlik → Basamak değeri
7 → Sayı değeri

Onlar basamağı → Basamak adı
2 onluk → Basamak değeri
2 → Sayı değeri

→ Aşağıdaki sayıların basamak adlarını yazınız.

19

Basamak adı

.....

.....

28

Basamak adı

.....

.....

37

Basamak adı

.....


.....

54

Basamak adı

.....

.....




BASAMAK DEĞERİ

- Aşağıdaki abaküslerde gösterilen sayılara göre boşlukları doldurunuz.



Onluk Birlik




Sayı:

Okunuşu:

.....

Onluk Birlik




Sayı:

Okunuşu:

.....

Onluk Birlik




Sayı:

Okunuşu:

.....

Onluk Birlik




Sayı:

Okunuşu:

.....

Onluk Birlik




Sayı:

Okunuşu:

.....

Onluk Birlik



Sayı:

Okunuşu:

.....