


Aynı tür on tane varlığın oluşturduğu topluluğa deste denir.

Aynı tür on iki tane varlığın oluşturduğu topluluğa düzine denir.


→ Aşağıdaki grupların altına deste ve düzine olduklarını yazınız.














→ Aşağıdaki ifadeleri görsellerden yararlanarak tamamlayalım.



Havuçların sayısının bir deste olması için
tane daha havuç eklenmesi gerekir.



Mantarların sayısının bir düzine olması için
tane mantar eklenmesi gerekir.



Topların sayısının bir deste olması için
tane top çıkarılması gerekir.

