



ilkokulodev.com



## 2.SINIF | DENEME SINAVI



2.Sınıf Evde Dene Özel Sayı



2020

2021

Yıl Sonu Genel  
Deneme Sınavı



@ilkokulodev




İlkokul Ödev ve Deneme Sınavı Grubu



Yazar & Dizgi  
Ali Can Fidan Özkan AK

1 Aşağıda verilen nesnelerin isimleri alfabetik olarak sıralandığında "en sonda" hangisi yer almalıdır?



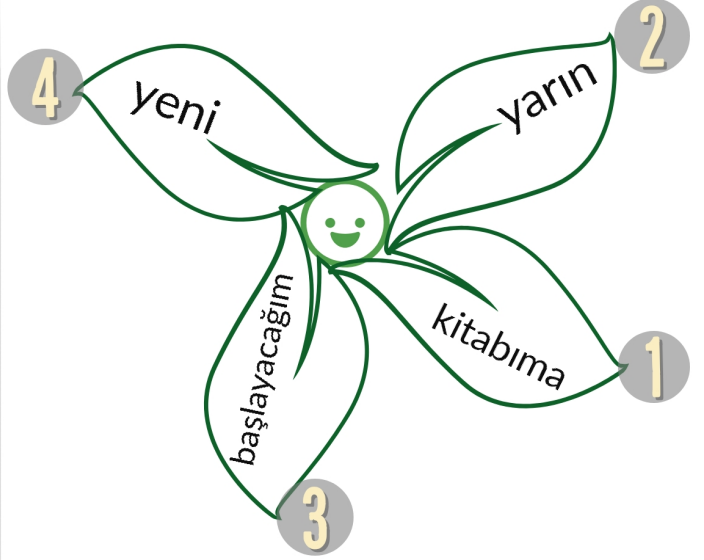
2 Aşağıdaki cümlelerden hangisinin sonuna soru işareti(?) konmaz?

- A) Yolculuğunuz nasıl geçti  
B) Orhan az önce buradan geçti  
C) Benim kalemimi kime verdin

Her yer kapalı olduğundan dolayı bu yıl bayram alışverişi için çarşıya gidemedik.

3 Aşağıdaki sorulardan hangisinin cevabı bu cümlede yoktur?

- A) Nereye gidemedik?  
B) Neden gidemedik?  
C) Kime gidemedik?



4 Numara verilmiş kelimeler ile "anlamlı ve kurallı" bir cümle oluşturursak sıralama nasıl olmalıdır?

- A) 2-4-1-3  
B) 2-1-3-4  
C) 4-2-3-1

*Seni görmek ..... buraya gelmiş.*

*Fırtınadan ..... ağaçlar devrildi.*

5 Verilen cümlelerdeki boşluklara aşağıdaki kelimelerden ikisi yazıldığında, hangi kelime dışta kalır?

- A) için  
B) kadar  
C) dolayı

## Renkleme İşaretleri

Sor bana haydi,  
En sevdiğim renk neydi?  
Mavi, yeşil, kırmızı  
Bir işaret ayırdı aramızı.  
Eyvah, renkler karıştı!  
Sondaki işaret üst cümleye  
Ne kadar da yakıştı.  
Hepsi birbiriyle yarıştı.  
Ödüller dostluk ve barıştı.  
Tabii ki her yarış  
Hep sonunda "nokta" kazandı.

Ali Can Fidan

(6. 7. ve 8. soruları şiire göre cevaplayalım.)

**6** Şiirde aşağıdaki renklerden hangisinin adı geçmez?

A) sarı B) mavi C) yeşil

**7** Şiirde geçen ve "üst cümleye yakıştığı söylenen" noktalama işareti aşağıdakilerden hangisidir?

A) ● B) ?  
C) !

**8** Bu şiir ile ilgili aşağıdaki bilgilerden hangisi yanlıştır?

A) Ödüller dostluk ve barıştır.  
B) Yarışları virgül kazanmış.  
C) Şiir on bir dizeden oluşur.


1. Bahçedeki domatezler kızarmış.  
2. Çikolatayı her çocuk sever.  
3. Gizlice gelip süpriz yaptı.

**9** Yukarıdaki cümlelerden hangilerinde "yazım yanlışı" yapılmıştır?

A) 1 ve 2 B) 2 ve 3  
C) 1 ve 3

**10** Aşağıdaki cümlelerden hangisinde "zıt anlamlı kelimeler" bir arada kullanılmıştır?


A) Teknoloji ile uzaktaki insanlarla daha yakın oluyoruz.  
B) Fareyi gören kedi koşmaya başladı.  
C) Bayrağımız kırmızı ve beyaz renklere sahiptir.



1 Tahtada yazan işlemin sonucu aşağıdakilerden hangisidir?

- A) 75
- B) 65
- C) 85

2 Aşağıdakilerden hangisi "1 düzineyi" ifade etmektedir?




30 27 ... A ... 21 ... B

3 Verilen "geriye doğru" ritmik sayma işlemindeki gizlenmiş A ve B sayılarının "toplamı" kaçtır?

- A) 57
- B) 46
- C) 42

ilkokulodev.com



4 Ayının balonundaki çıkarma işleminin "gerçek sonucu ile tahminî sonucu arasındaki ilişki", aşağıdakilerden hangisidir?

- A) Gerçek sonuç tahminî 1 fazladır.
- B) Tahminî sonuç gerçekten 1 fazladır.
- C) Gerçek sonuç tahminîden 2 fazladır.

5 "3 birlik ve 9 onluktan" oluşan sayının "en yakın onluğu" aşağıdakilerden hangisidir?

- A) 90
- B) 40
- C) 30



12 yıl sonra 21 yaşında olacağım.

6 Yukarıdaki bilgiye göre bu kızın 2 yıl önceki yaşı kaçtır?

- A) 9
- B) 8
- C) 7



Bir şişe süt 7 bardağı tam olarak doldurmaktadır.

7 Bu bilgiye göre 4 şişe süt ile kaç bardak süt dolacaktır?

- A) 28
- B) 16
- C) 32

8 Geometrik cisimlerden biri olan "küp" ile ilgili aşağıdaki bilgilerden hangisi yanlıştır?

- A) Küpün 6 adet yüzü vardır.
- B) 2 yüzü kare, 4 yüzü dikdörtgen şeklindedir.
- C) Küpün köşe sayısı 8'dir.



9 6 yarım ve 8 çeyrek ekmek toplam kaç tane tam ekmek etmektedir?

- A) 14 tam
- B) 8 tam
- C) 5 tam

ilkokulodev.com

3x3

6x1

0x6

2x2

4x2

1x4

10 Yukarıda verilen çarpma işlemlerinden kaç tanesinin sonucu "5 sayısından büyüktür"?

- A) 3 tanesi
- B) 4 tanesi
- C) 5 tanesi



Yunus ve Banu'nun elinden tuttukları kişi onların annesinin erkek kardeşidir. Onlar ise bu kişiye ..... demektedir.

1 Yukarıdaki boşluğa uygun olan kelime aşağıdakilerden hangisidir?

- A) amca
- B) enişte
- C) dayı



2 Poster verilen bu millî bayramın adı "....." ile gizlenmiştir. Aşağıdakilerden hangisi bu noktalı yere gelecektir?

- A) Cumhuriyet
- B) Zafer
- C) Ulusal Egemenlik ve Çocuk

Bu Faruk. Ailesi ona her gün yeni oyuncaklar alıyor ama o hepsini kırıyor. Her gün harçlığını son lirasına kadar harcıyor.



3 Faruk ile ilgili verilen bilgilerden hangisi yanlıştır?

- A) Tutumlu bir çocuk değildir.
- B) Tasarruf yapan bir çocuktur.
- C) Eşyalarını özenli kullanmaz.

ilkokulodev.com



Doğan, çok fazla sağlıksız yiyecek tüketmekten hasta olmuş ve doktora gitmiştir. Doktor, Doğan'a sağlıklı besinlerle dolu bir liste yazmıştır.

4 Aşağıdakilerden hangisi doktorun yazdığı yiyeceklerden biri olamaz?



5 Aşağıdakilerden hangisi, ikinci sınıfa giden Umut'un evdeki sorumluluklarından biridir?

- A) Ütü yapmak
- B) Bıçak ile sebze doğramak
- C) Ödevlerini yapmak



6 Aşağıda verilen çocuklardan hangisi "Ağustos ayına uygun kıyafetler" giymemiştir?

A)



B)



C)



7 Aşağıda verilen görsellerdeki mesleklerden hangisi "sağlık alanında çalışan birine" ait değildir?

A)



B)



C)



8 Yukarıdaki tabloda verilen ulaşım araçlarından kaç tanesi "kara yolu taşıtı" değildir?


- A) 2 tanesi  
B) 3 tanesi  
C) 1 tanesi

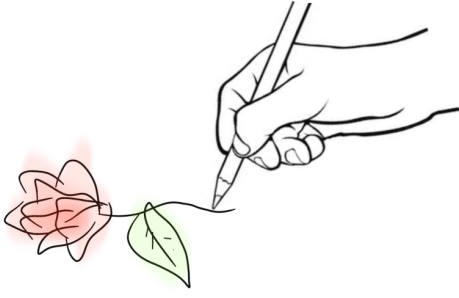
9 Yaralanma olan bir kaza gördüğümüz zaman "ilk olarak" aramamız gereken acil durum numarası aşağıdakilerden hangisidir?

- A) 155  
B) 112  
C) 110

10 Verilen ülkelerden hangisinin Türkiye ile "sınır komşuluğu" yoktur?

- A) İngiltere  
B) Yunanistan  
C) Suriye





1 Yukarıdaki görseli ifade eden kelime aşağıdakilerden hangisidir?

- A) draw
- B) cut
- C) listen



3 Günün yukarıda belirtilen vaktinde aşağıdakilerden hangisi söylenmelidir?

- A) Good morning
- B) Good night
- C) Good afternoon

ilkokulodev.com




ELEPHANT



2 Aşağıdakilerden hangisi verilen sayılardan birinin adı değildir?

- A) seven
- B) eight
- C) nine

4 Adı verilen hayvanın görseli hangi şıkta bulunmaktadır?



5 Aşağıdakilerden hangisi "Sola Dön" anlamına gelmektedir?

- A) Turn right
- B) Sit down
- C) Turn left

