


1.SINIF GEOMETRİK ÖRÜNTÜ MATEMATİK

Geometrik örüntüler, matematikte düzenli tekrarlarla oluşturulan şekil ve desenlerdir.



1) Yukarıdaki örüntüde boş yerlere hangi şekiller gelmelidir?

- A) 2 kiraz
- B) 1 çilek 1 kiraz
- C) 1 kiraz 1 çilek



2) Yukarıdaki örüntünün kuralı aşağıdakilerden hangisidir?

- A) 2 yeşil üçgen 2 mor üçgen
- B) 1 mor üçgen 1 yeşil üçgen
- C) 2 yeşil üçgen 1 mor üçgen

Örüntünün kuralı: 1 1

3) Aşağıdakilerden hangisi yukarıdaki örüntü kuralına uymaz?

- A)
- B)
- C)




4) Yukarıdaki örüntüde kurala uygun olarak noktalı yerlere hangi şekiller gelmelidir?


- A)
- B)
- C)

1.SINIF GEOMETRİK ÖRÜNTÜ MATEMATİK


➤ Aşağıdaki örüntüleri inceleyip, örüntünün kuralını alttaki noktalı yerlere yazınız.




Örüntünün kuralı:



Örüntünün kuralı:



Örüntünün kuralı:



Örüntünün kuralı:



Örüntünün kuralı: