

1)Görseldeki çocukların benzer yönü hangisidir?

A) Boyları

B) Kiloları

C) Saç renkleri



2)Güvenlik kurallarıyla ilgili verilenlerden hangisi doğrudur?

A) Karşıdan karşıya geçerken koşmalıyız.

B) Karşıdan karşıya geçerken yaya geçidini kullanmalıyız.

C) Yürürken yolun ortasından yürümeliyiz.

3)Aşağıdaki eşyalardan hangisi sınıfımızda bulunmaz?


A)



B)



C)



4)Bayrak töreninde nasıl davranmalıyız?

A) İstiklal Marşı okunurken konuşmamalı ve hareket etmemeliyiz.

B) Bayrak töreninde konuşmalıyız.

C) Bayrak töreninde sağa sola bakmalıyız.

5)Aşağıdaki görsellerden yanlış olan davranış hangisidir?

A)



B)



C)



6)Aşağıdakilerden hangisi sınıf kurallarından değildir?


- A) Çöplerimizi çöp kovasına atmamız.
- B) Sınıf içerisinde top oynamamız.
- C) Sınıf eşyalarına zarar vermememiz.

7)



Günaydın arkadaşlar.

Susun be !



Erdem



Teşekkür ederim.

Nihat

Elif


Yukarıdaki çocuklardan hangisi nezaket sözcüğü kullanmamıştır?

A) Erdem

B) Nihat

C) Elif

8) Aşağıdakilerden hangisi evcil hayvandır?



9) Gündüzlerin uzun, gecelerin kısa ve havanın oldukça sıcak olduğu mevsim hangisidir?

A) Kış

B) Sonbahar

C) Yaz

10) Atatürk'ün çocuklara hediye ettiği milli bayramımız hangisidir?

A) 29 Ekim Cumhuriyet Bayramı

B) 23 Nisan Ulusal Egemenlik ve Çocuk Bayramı

C) 19 Mayıs Atatürk'ü Anma, Gençlik ve Çocuk Bayramı

## Minik Balıkçı

Minik balıkçı babasıyla balığa gitti. Oltasını göle attı. balıkları beklemeye başladı. Bir süre sonra kırmızı bir balık yakaladı. Balık çok Küçüktü. Minik balıkçı hemen balığı geri göle bıraktı.



1, 2 ve 3.soruyu yukarıdaki hikayeye göre cevaplayalım.

1) Minik balıkçı babasıyla nereye gitmiş?

A) Tarlaya                      B) Balığa                      C) Okula

2) Minik balıkçı balığa kimle gitmiş?

A) Dedesiyle                      B) Kardeşiyle                      C) Babasıyla

3) Minik balıkçı tuttuğu balığı ne yapmış?

A) Tekrar göle bırakmış.                      B) Babasına vermiş.

C) Yemiş.

4) "uzun" sözcüğünün zıt anlamlısı hangisidir?

A) büyük

B) kısa

C) küçük

5) Aşağıdakilerden hangisinde noktalama işareti doğru kullanılmıştır?

A) Yarın tatil mi.

B) Ödevlerimi yaptım.


C) Beni dinle ?

6) Aşağıdaki sözcüklerden hangisi 3 hecelidir?

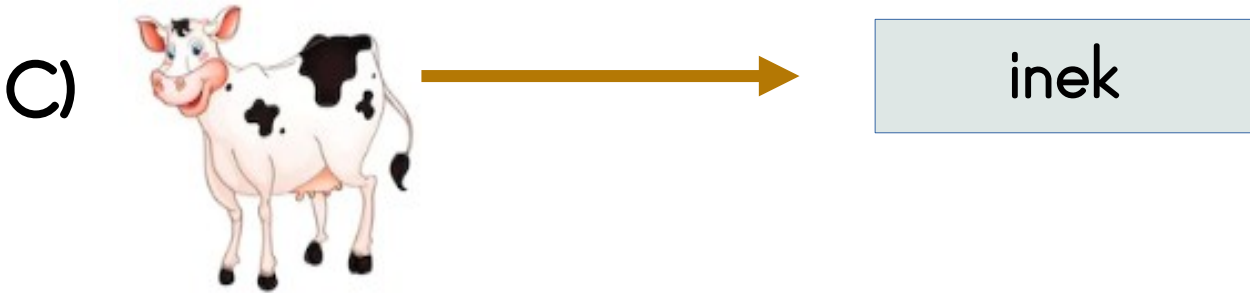

A) kelebek

B) ağaç

C) at



7) Eşleştirmelerden hangisi yanlıştır?



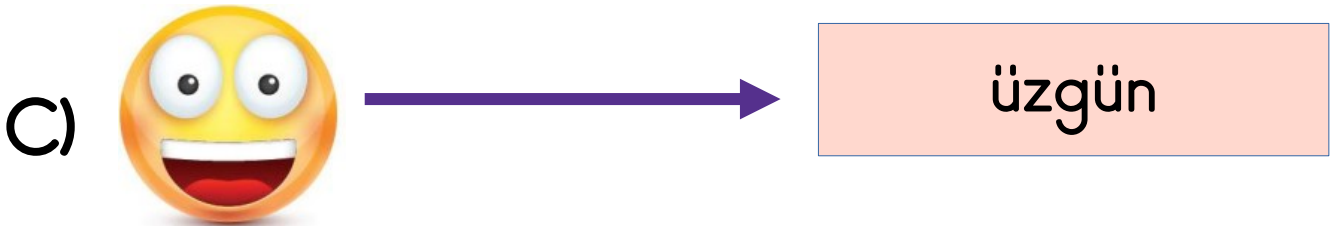
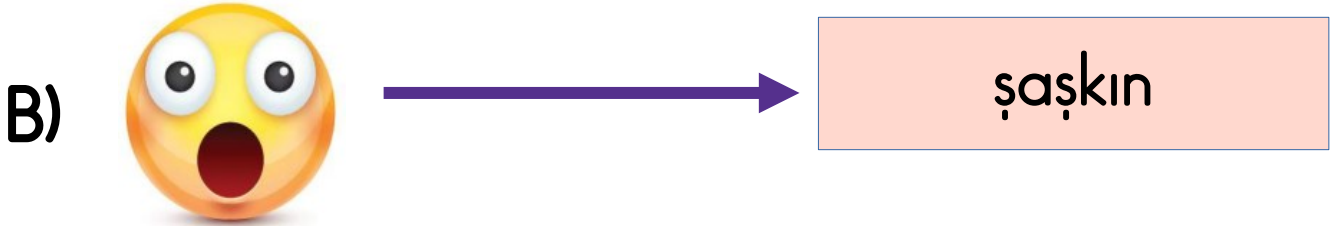
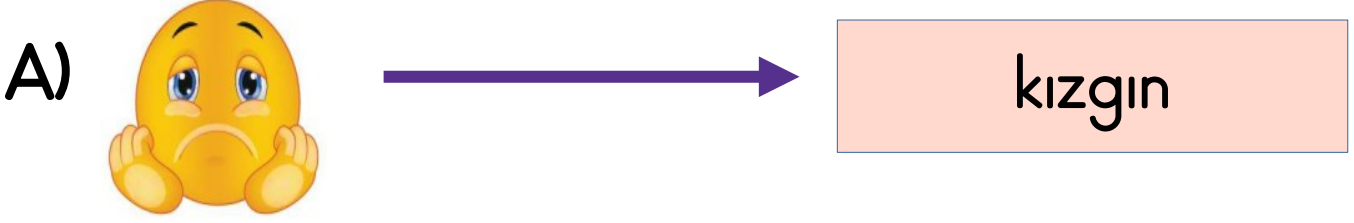
8) "uzak" sözcüğünün zıt anlamlısı hangisidir?

A) kısa

B) yakın

C) yüksek

9) Eşleştirmelerden hangisi doğrudur?



10) pikniğe - gideceğiz- tatilde - ailemle  
Yukarıdaki kelimelerle oluşturulan cümle  
hangisidir?

A) Pikniğe ailemle gideceğiz tatilde.

B) Ailemle tatilde pikniğe gideceğiz.

C) Pikniğe tatilde ailemle gideceğiz.



1)



Aşağıdakilerden hangisi doğrudur?

- A) At ineğin önünde, tavuğun arkasındadır.  
B) Köpek tavuğun arkasında, ineğin önündedir.  
C) Tavuk atın arkasında, ineğin önündedir.

2)

12

9

17

19

14

3

Yukarıdaki sayılardan en büyüğü ve en küçüğü hangisidir?

A) 17 ve 9

B) 19 ve 3

C) 3 ve 12

3) 2'şer ileri sayarken 14'ten sonra hangi sayıyı söyleriz?

A) 12

B) 14

C) 16

4) Aşağıdaki işlemlerden hangisi yanlıştır?

A)  $12+9=22$

B)  $7+8=15$

C)  $9+4=13$

5) Hangi sayıyla 6'yı toplarsak 14 eder?

A) 7

B) 8

C) 9

6) Aşağıdaki sayılardan en küçüğü hangisidir?

A) 3

B) 7

C) 0

7) Anneme 17 tane papatya topladım. Kardeşim 7 tane papatya toplamış. Kardeşimle ben anneme kaç papatya vereceğiz?



A) 24

B) 10

C) 25

8) Kenan bakkaldan 22 tane yumurta aldı. Yolda gelirken yumurtaların 9 tanesi kırıldı. Buna göre geriye kaç yumurta kaldı?



A) 31

B) 13

C) 22

9) Ablam benden 9 yaş büyüktür.  
Ben 8 yaşında olduğuma göre  
ablam kaç yaşındadır?



A) 9

B) 1

C) 17

10) Eşleştirmelerden hangisi yanlıştır?

